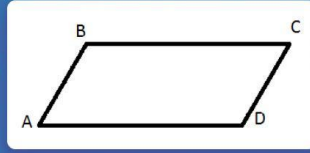
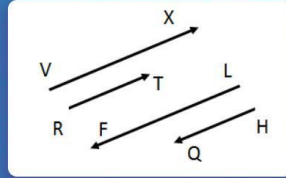


Якщо $ABCD$ — паралелограм, тоді як називають вектори \overrightarrow{DA} і \overrightarrow{BC} ?



?

Як називають вектори \overrightarrow{VX} і \overrightarrow{RT} ?



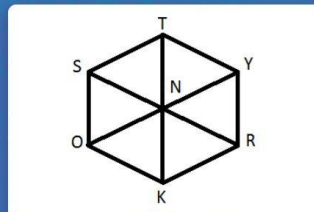
?

Якщо $KPNS$ — прямокутник, тоді як називають вектори \overrightarrow{KP} і \overrightarrow{PK} ?



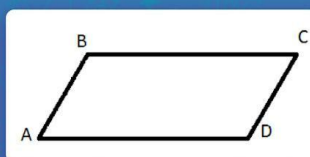
?

Якщо $OSTYRK$ — шестикутник, тоді як називають вектори \overrightarrow{TN} і \overrightarrow{YN} ?



?

Якщо $ABCD$ — паралелограм, тоді як називають вектори \overrightarrow{CB} і \overrightarrow{BC} ?



?