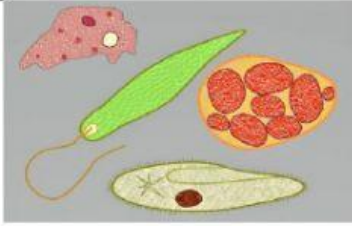
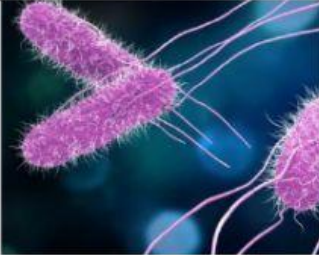



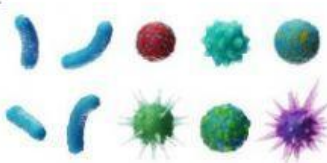


REINO PROTISTA

1. Selecciona las oraciones que sean verdaderas.

- A. Al reino protista pertenecen las algas y los protozoos.
- B. Las bacterias son protozoos.
- C. Los protistas pueden ser unicelulares o pluricelulares.
- D. Las amebas pertenecen al reino monera.
- E. Algunos protistas fabrican su propio alimento.
- F. Los protozoos son seres microscópicos.

2. Observa cada imagen y escribe a qué reino de la naturaleza pertenece.

3. ¿Qué característica NO pertenece al reino protista?

- a. Pueden fabricar su propio alimento.
- b. Viven en el agua y tienen hermosos y diversos colores.
- c. Se pueden reproducir de forma sexual o asexual.
- d. Tienen órganos: raíces, tallos y hojas.
- e. Pueden causar grandes enfermedades.