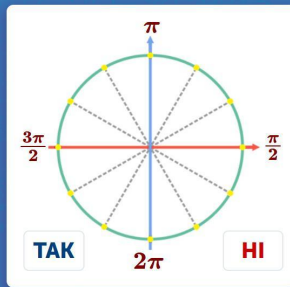
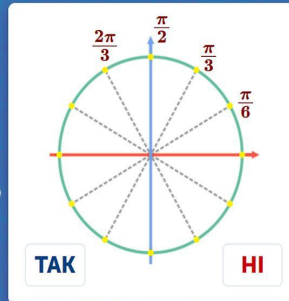


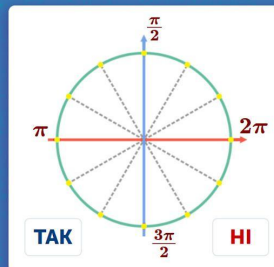
Чи правильно позначено всі кути на малюнку?



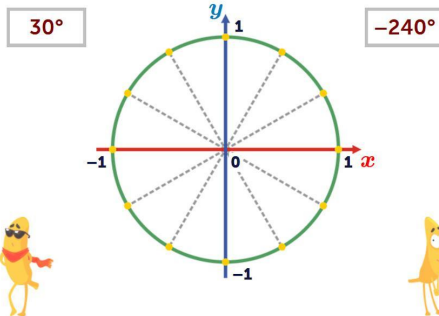
Чи правильно позначено всі кути на малюнку?



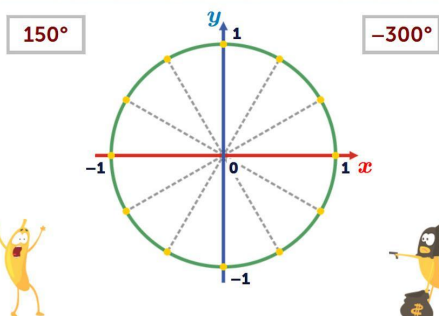
Чи правильно позначено всі кути на малюнку?



Познач на малюнку -240° та 30°



Познач на малюнку 150° та -300°



Чи правильне твердження?



Синусом кута α називається ордината точки $P_\alpha = (x; y)$ одиничного кола.

