

LAS POTENCIAS

 1. Escribe en forma de potencia.

$$5 \times 5 \times 5 \times 5 =$$

$$4 \times 4 \times 4 =$$

$$2 \times 2 \times 2 =$$

$$3 \times 3 =$$

$$8 \times 8 \times 8 \times 8 \times 8 =$$

$$6 \times 6 \times 6 =$$

 2. Escribe en forma de producto y calcula el resultado.

$$4^5 = \underline{\hspace{2cm}} =$$


$$7^2 = \underline{\hspace{2cm}} =$$

$$8^4 = \underline{\hspace{2cm}} =$$


$$3^3 = \underline{\hspace{2cm}} =$$

$$9^2 = \underline{\hspace{2cm}} =$$


$$2^6 = \underline{\hspace{2cm}} =$$

 3. Tengo 7 jaulas. En cada jaula hay 7 pájaros. ¿Cuántos pájaros hay en total?


SOLUCIÓN:

 4. En una mesa hay 6 platos. En cada plato hay 6 sándwiches y en cada sándwich hay 6 rodajas de salchichón. ¿Cuántas rodajas de salchichón hay en total?

SOLUCIÓN:

 5. En una mesa hay 4 fuentes, en cada fuente 4 cupcakes, y cada cupcake tiene 4 lacasitos. ¿Cuántos lacasitos hay en total?

SOLUCIÓN:

 6. En una finca hay ocho árboles. En cada árbol hay ocho ramas y en cada rama hay ocho pajaritos cantando. ¿Cuántos pajaritos hay en total?

SOLUCIÓN: