

ชื่อ.....เลขที่.....

วิชา คณิตศาสตร์ ชั้นประถมศึกษาปีที่ 2 เรื่อง เวลา

คำชี้แจง:จงจับคู่เวลาให้ตรงกับภาพของนาฬิกาดังต่อไปนี้ให้ถูกต้อง

ก. **07:00 น.**


ข. **05:00 น.**


ช. **09:00 น.**


ค. **01:00 น.**


ด. **10:00 น.**

ตัวอย่าง

ข. 1) 

\_\_\_\_\_ 2) 

\_\_\_\_\_ 3) 

\_\_\_\_\_ 4) 

\_\_\_\_\_ 5) 