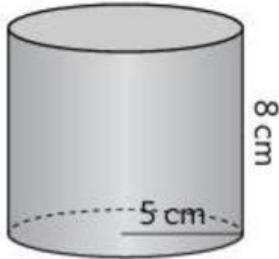


ÁREAS DE CUERPOS REDONDOS

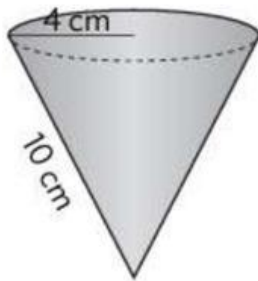


(Calcula en tu cuaderno y por aquí el resultado. Recuerda poner los puntos en los miles)

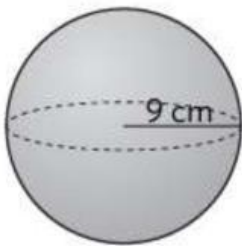
1.- Calcula el área de estos cuerpos



Área es igual a _____ cm^2



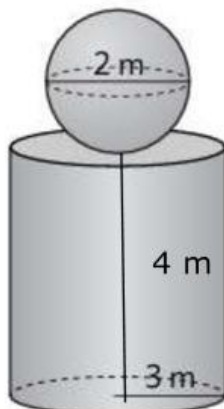
Área es igual a _____ cm^2



Área es igual a _____ cm^2

2.- Se quiere dar una mano de pintura la siguiente estructura

- ¿Qué área hay que pintar si no se pinta la base inferior de la zona cilíndrica?



Área es igual a _____ m^2



- ¿Qué cantidad de pintura hay que comprar si se gasta medio kilo por cada metro cuadrado?

Gastaremos _____ kg

- ¿Cuánto costará la pintura si un kilo cuesta 12,50 €?

Costará _____ €

- Después de esta, deben pintar una estructura cónica de 2 m de radio de la base y 5 m de generatriz de la que tampoco pintarán la base inferior.
- ¿Cuánto dinero gastarán en este caso en pintura?

Gastarán _____ €

- ¿Cuánto más que en la otra estructura?

Gastarán _____ € más