


# LKPD

## Lembar Kerja Peserta Didik

### SISTEM PERNAPASAN MANUSIA

Untuk Kelas 5 Sekolah Dasar



**Kelompok** : .....

**Nama Kelompok** : .....

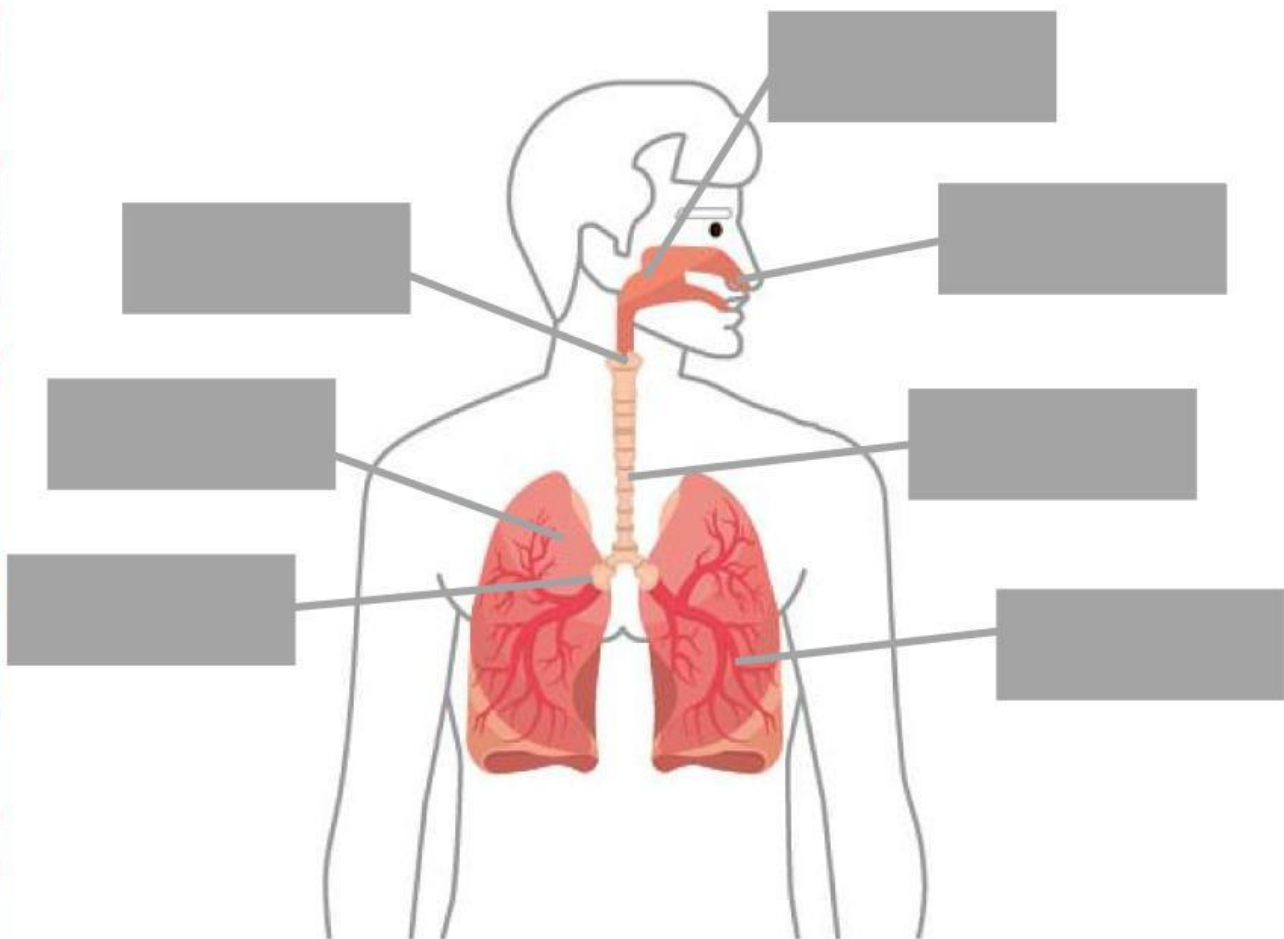
.....

.....

## PETUNJUK Pengerjaan

1. Tuliskan identitas pada kolom yang sudah disediakan.
2. Perhatikan gambar sistem pernapasan manusia, tuliskan keterangan nama pada bagan kerja pernapasan manusia sesuai dengan yang ditunjukkan pada gambar.
3. Dari keterangan gambar yang sudah diisi pada gambar, tuliskan informasi fungsi dari setiap organ pernapasan manusia.
4. Bacalah paragraf tentang dampak polusi dan berikan contoh dampak polusi serta cara menjaga udara tetap bersih.

**Lengkapi nama organ pernapasan sesuai dengan gambar yang ditunjuk!**



Tuliskan nama serta fungsi setiap organ berdasarkan gambar yang ditunjukkan.



\_\_\_\_\_

Fungsi:



\_\_\_\_\_



\_\_\_\_\_

Fungsi:



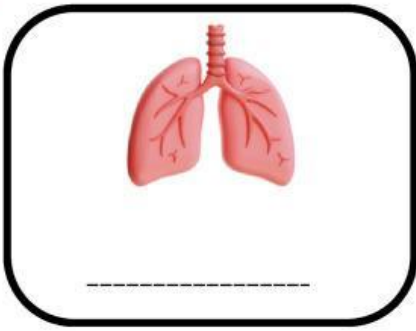
\_\_\_\_\_

Fungsi:



\_\_\_\_\_

Fungsi:



**Fungsi:**

**Baca paragraf berikut ini, lalu diskusikan dengan kelompokmu. Setelah itu, tuliskan jawabannya pada kolom yang telah disediakan**

Polusi udara berasal dari asap kendaraan, pabrik, dan pembakaran sampah. Udara kotor dapat masuk ke sistem pernapasan manusia dan menyebabkan penyakit seperti asma atau bronkitis. Oleh karena itu, menjaga kebersihan udara sangat penting untuk kesehatan paru-paru kita. Beberapa cara yang dapat dilakukan adalah menanam pohon, mengurangi penggunaan kendaraan bermotor, dan membuang sampah pada tempatnya.

**1. Sebutkan dua dampak polusi udara terhadap sistem pernapasan manusia.**

A large, empty white rounded rectangular box with a black border, intended for the student to write their answer to the question above.

**2. Tuliskan tiga cara untuk menjaga udara tetap bersih!**



