

Lembar Kerja Peserta Didik

# LKPD

MATEMATIKA DASAR

Materi : Pengukuran



# Matematika

## Pengukuran Fase A

1.

Pilihan Ganda  
Perhatikan gambar Dibawah ini



buku A



buku B



buku C



buku D

Pada gambar diatas Buku manakah yang paling berat?

Buku C

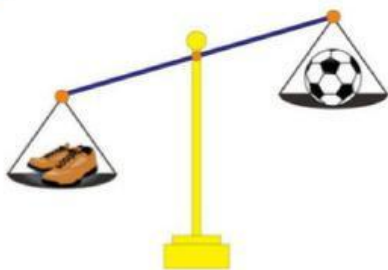
Buku D

Buku A

Buku B

2.

Pilihan ganda kompleks



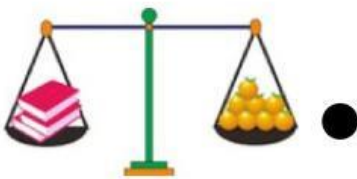
Pilihlah jawaban yang benar dan tepat sesuai dengan gambar disamping!

- ☐ Sepatu lebih berat dari pada bola
- ☐ Bola dan sepatu mempunyai berat yang sama
- ☐ Sepatu lebih ringan dari pada bola
- ☐ Bola lebih ringan dari pada sepatu
- ☐ Bola lebih berat dari pada sepatu

# Matematika

## Pengukuran Fase A

3. Menjodohkan  
Tarik garis gambar dan pernyataan dibawah ini dengan jawaban yang baik dan benar!



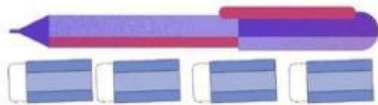
- Buku lebih berat daripada jeruk
- Sebuah apel lebih ringan daripada empat batang coklat
- Dua buku dan satu tas mempunyai berat yang sama
- Tiga apel lebih ringan daripada satu tangkai anggur
- Satu tas sekolah lebih berat daripada dua buku
- Delapan jeruk mempunyai berat yang sama dengan tiga buku



# Matematika

## Pengukuran Fase A

### 4. Pernyataan Benar salah



Jawab benar atau salah pada tabel pertanyaan dibawah ini!

No	Pernyataan	Benar	Salah
1.	Pensil lebih panjang dibandingkan dengan bulpoin		
2.	Bulpoin lebih panjang daripada crayon dan pensil		
3.	Panjang bulpoin sama dengan empat penghapus		
4.	Crayon lebih pendek daripada pensil dan bulpoin		
5.	Panjang pensil sama dengan 2 penghapus		