



Sekolah Dasar  
Kelas 6

# LEMBAR KERJA PESERTA DIDIK



Perkembangbiakan  
Makhluk Hidup

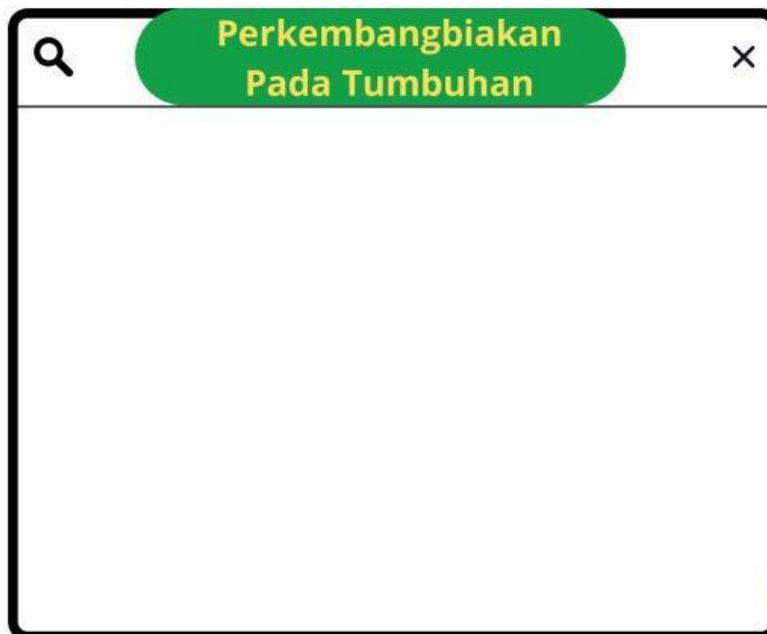
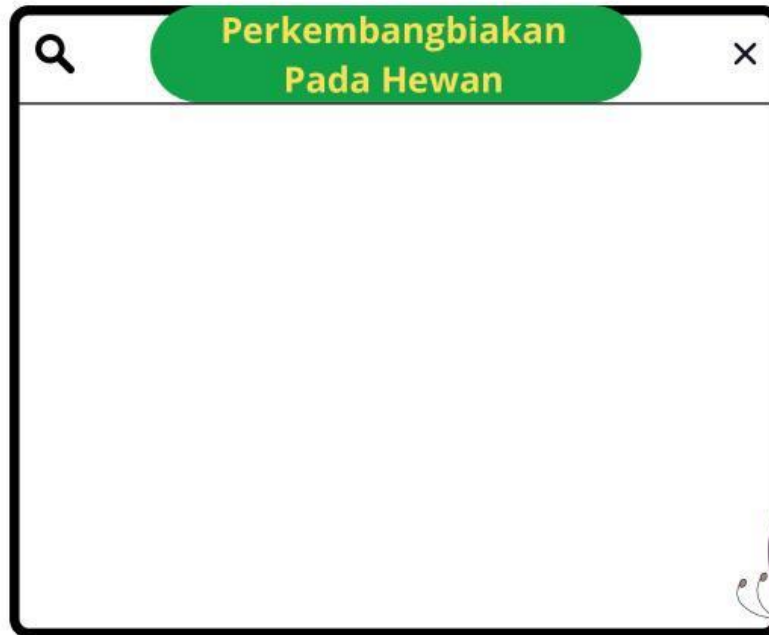


Nama :

Absen :

# PERKEMBANGBIAKAN MAKHLUK HIDUP

Ayo simak video dibawah ini dengan baik yaa







## Latihan Soal

**1. Perkembangbiakan pada hewan dan tumbuhan memiliki 2 macam yaitu secara... dan ...**

☐ Generatif dan Ovipar

☐ Vegetatif dan Bertelur

☐ Generatif dan Vegetatif

☐ Tunas dan Membelah diri

centang jawaban yang benar!

**2. Perkembangbiakan hewan secara generatif ada 3 yaitu**

☐ Ovipar

☐ Ovovivipar

☐ Vivipar

☐ Membelah Diri

**3. Tumbuhan yang berkembang biak dengan cara menyetek batang, seperti pada tanaman mawar, adalah contoh perkembangbiakan secara?**

☐ Vegetatif alami

☐ Generatif

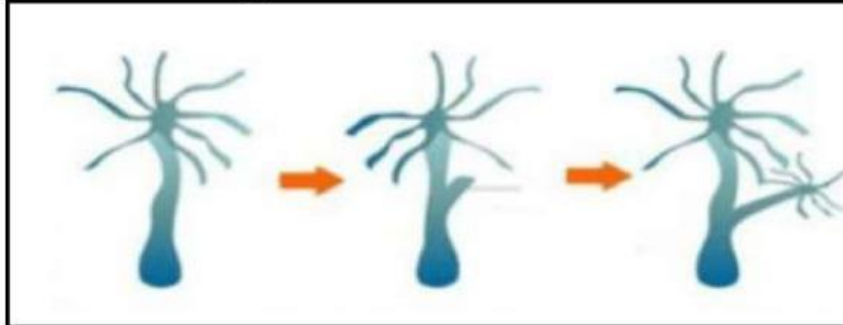
☐ Vegetatif buatan

☐ Generatif buatan



## Latihan Soal

Perhatikan gambar ini!



4.gambar diatas merupakan hewan hydra yang berkembangbiakan dengan cara?

5.Perkembangbiakan tumbuhan secara vegetatif buatan biasanya dilakukan dengan cara

- |   |  |
|---|--|
| <input type="checkbox"/> Menyemai biji  | <input type="checkbox"/> Menyetek batang tanaman |
| <input type="checkbox"/> Menyusun spora | <input type="checkbox"/> Menanam akar            |

~Selesai~

Good Job!!! Terimakasih Telah mengerjakan latihan soal ini dengan sungguh-sungguh.

Penulis: Kadek Tristina Widyanti (2411021014)