

KURIKULUM MERDEKA

# LEMBAR KERJA PESERTA DIDIK



KELAS : \_\_\_\_\_

NAMA : \_\_\_\_\_




## •APA ITU PENJUMLAHAN?

**PENJUMLAHAN ADALAH SALAH SATU OPERASI MATEMATIKA YANG SANGAT PENTING DAN MENYENANGKAN! BAYANGKAN KAMU PUNYA BEBERAPA BUAH, DAN KAMU INGIN TAHU BERAPA BANYAK BUAH YANG KAMU MILIKI SETELAH MENAMBAHKAN BEBERAPA LAGI. NAH, ITULAH YANG DISEBUT PENJUMLAHAN!**

## **KENAPA PENJUMLAHAN ITU MENARIK?**

**1. MEMBANTU DALAM KEHIDUPAN SEHARI-HARI : SETIAP KALI KAMU MEMBELI PERMEN ATAU MAINAN, KAMU PASTI MENGHITUNG BERAPA BANYAK YANG KAMU PUNYA. PENJUMLAHAN MEMBUAT KITA BISA TAHU TOTALNYA!**

**2. BERMAIN DENGAN ANGKA: PENJUMLAHAN SEPERTI BERMAIN PUZZLE DENGAN ANGKA. KAMU BISA MENGGABUNGGAN ANGKA-ANGKA DAN MELIHAT HASILNYA. MISALNYA, JIKA KAMU PUNYA 3 APEL DAN TEMANMU MEMBERI 2 APEL LAGI, BERAPA BANYAK APEL YANG KAMU MILIKI SEKARANG? (JAWABANNYA ADALAH  $3 + 2 = 5$  APEL!)**







**MARI KITA LIHAT BEBERAPA CONTOH PENJUMLAHAN YANG BISA MEMBUATMU LEBIH PAHAM:**

### **CONTOH 1**

**JIKA KAMU MEMILIKI 4 BOLA DAN KEMUDIAN MENDAPATKAN 3 BOLA LAGI, BERAPA BANYAK BOLA YANG KAMU PUNYA SEKARANG?**

**-JAWABAN:  $4 + 3 = 7$  BOLA**

### **CONTOH 2**

**DI KELASMU ADA 5 ANAK LAKI-LAKI DAN 6 ANAK PEREMPUAN. BERAPA JUMLAH TOTAL ANAK DI KELAS?**

**- JAWABAN:  $5 + 6 = 11$  ANAK!**

### **•AKTIVITAS MENYENANGKAN**

**UNTUK MEMBUAT PENJUMLAHAN LEBIH MENARIK, COBA LAKUKAN AKTIVITAS BERIKUT:**

**-PERMAINAN HITUNG BUAH: AMBIL BEBERAPA BUAH (MISALNYA, APEL DAN JERUK). HITUNG JUMLAH BUAH YANG KAMU PUNYA, LALU TAMBAHKAN BEBERAPA LAGI. CATAT HASILNYA!**

**-KARTU ANGKA: BUAT KARTU DENGAN ANGKA DARI 1 HINGGA 10. AMBIL DUA KARTU SECARA ACAK DAN JUMLAHKAN ANGKANYA. SIAPA YANG BISA MENDAPATKAN HASIL TERTINGGI?**





## •KESIMPULAN

**PENJUMLAHAN ADALAH CARA YANG MENYENANGKAN UNTUK MENGHITUNG DAN MEMAHAMI DUNIA DI SEKITAR KITA. DENGAN BELAJAR PENJUMLAHAN, KAMU TIDAK HANYA AKAN MENJADI PINTAR DALAM MATEMATIKA, TETAPI JUGA BISA MENGGUNAKAN KETERAMPILAN INI DALAM KEHIDUPAN SEHARI-HARI! JADI, AYO TERUS BERLATIH DAN NIKMATI SETIAP ANGKA YANG KAMU HITUNG!**







## A. Penjumlahan Bilangan

Mari hitunglah jumlah benda di bawah ini!

 $+$  $=$  3

 $+$  $=$  4

 $+$  $=$  6

 $+$  $=$  8

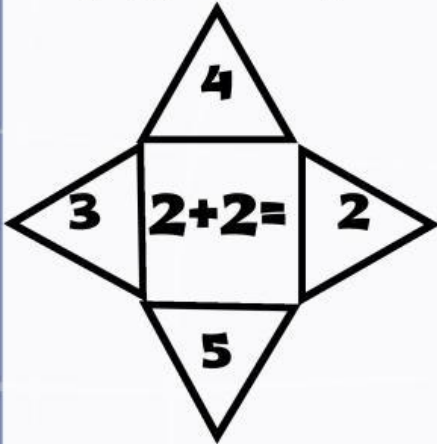
 $+$  $=$  2

 $+$  $=$  7





Ayo, pilihlah jawaban berikut, yang kamu anggap benar

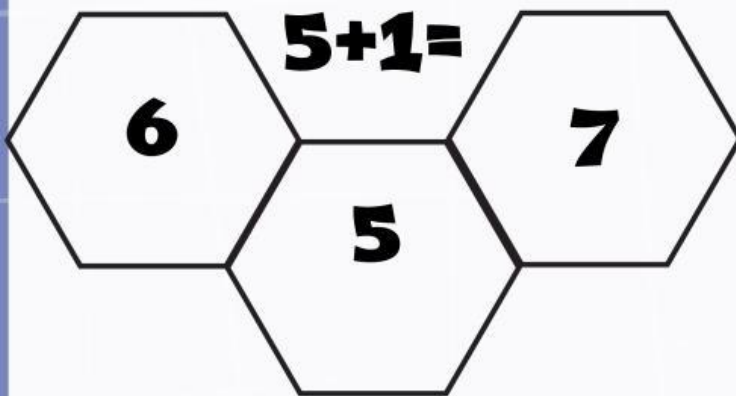


$$3+2=$$

4

5

3

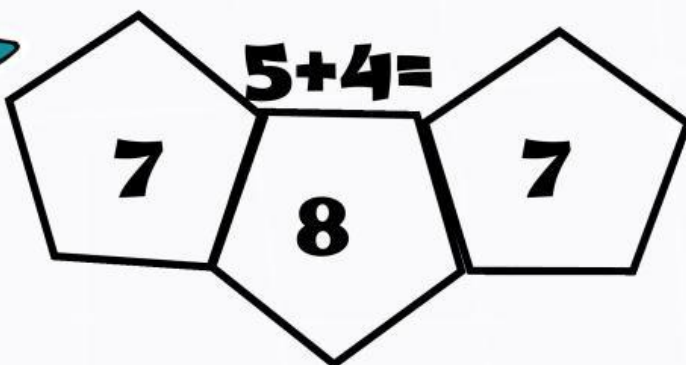


$$2+5=$$

8

7

9



$$6+4=$$

10

11

12





**Buatlah mereka semua agar dapat menemukan jalan pulang!!**

