

Nama


Kelompok :

Kelas :

## LEMBAR KERJA PECAHAN

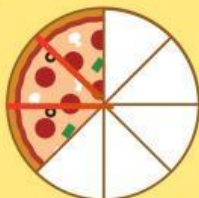
Ada banyak sekali Pizza! coba tuliskan berapa bagian setiap pizza di bawah ini!

Petunjuk : Tuliskan pecahan yang sesuai dengan gambar pizza



1
4

























# Matching Fractions

Draw lines to connect the word, the number, and the picture form of each fraction.

The first one has been done for you.

satu per tiga ☐

dua per lima ☐

empat per lima ☐

dua per tiga ☐

satu per dua ☐

tiga per lima ☐

☐  $\frac{3}{5}$  ☐

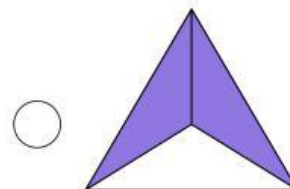
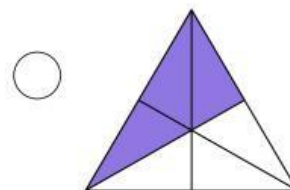
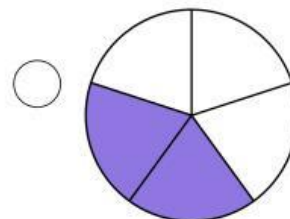
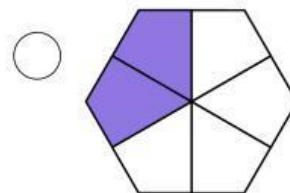
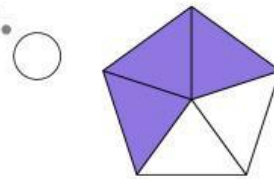
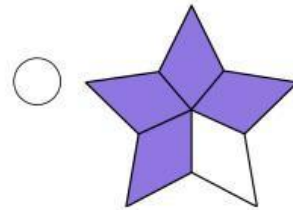
☐  $\frac{2}{3}$  ☐

☐  $\frac{1}{3}$  ☐

☐  $\frac{4}{5}$  ☐

☐  $\frac{2}{5}$  ☐

☐  $\frac{1}{2}$  ☐

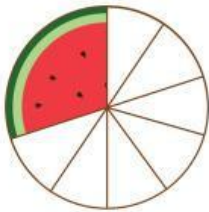


# Pecahan Semangka

Pastikan setiap jawaban memiliki instruksi perhitungan yang tepat. Pastikan kembali hasil jawaban untuk memastikan keakuratannya.



1




Ada 10 potong semangka. Aaron menghabiskan empat potong semangka, tetapi Marceline menghabiskan 3 potong. Secara keseluruhan, berapa banyak potongan semangka yang telah dihabiskan? Berapa banyak semangka yang tersisa?

---

---

2




Ibu memotong buah semangka. Setiap semangka dipotong menjadi delapan bagian. Donna memakan tiga potong semangka, berapa banyak semangka yang tersisa?

---

---

3



Helena telah menghabiskan dua potong dari masing-masing tiga semangka yang dibelinya jika masing-masing dibagi menjadi delapan bagian. Berapa banyak potongan semangka yang masih ada setelah Helena menghabiskan semuanya?

---

---