

**NAMA ANGGOTA:** .....

.....



.....

.....


## LKPD

**Kerjakan lah aktivitas berikut ini**

**Bagus membeli 2 alpukat dan 3 strawberry, harga 1 alpukat adalah Rp 3500, jika bagus membayar Rp 10000 untuk semuanya, maka berapakah harga strawberry per buahnya?**

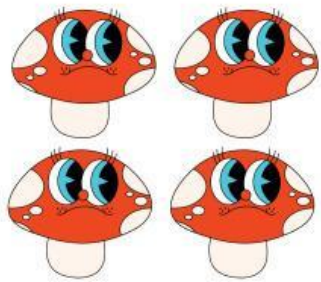

 $+$  $=$ 

**Rp 10000**


  
 $=$ 

**Rp .....**

**juyus membeli 4 jamur dan 9 bunga, harga 1 bunga adalah Rp 2000, jika bagus membayar Rp 30000 untuk semuanya, maka berapakah harga jamur per buahnya?**

 $+$  $=$ 

**Rp 30000**

  
 $=$ 

**Rp .....**

**Berikan simbol yang tepat pada pernyataan berikut ini dengan memindahkan kotak jawaban ke kotak kosong**

## **Uang Leo ..... uang Afa**

**Jika uang leo lebih banyak dari uang Afa**

**=**

**Jika uang leo lebih sedikit dari uang Afa**

**=**

**Jika uang leo sama besar dari uang Afa**

**=**

