



Unidades decimales y fracciones


Escribe en cada hueco el número adecuado.



décimas


Fracción $\rightarrow \frac{\text{}}{\text{}}$





centésimas

Fracción $\rightarrow \frac{\text{}}{\text{}}$



Asocia cada unidad decimal o fracción con su forma decimal.

$\frac{2}{10}$	→
4 décimas	→
22 centésimas	→
$\frac{49}{100}$	→
4 centésimas	→
$\frac{2}{100}$	→
49 centésimas	→
2 centésimas	→

0,02
0,2
0,22
0,42
0,04
0,4
0,44
0,49

Cuenta las monedas y billetes y escribe en la caja correspondiente el número decimal que indique el dinero total que hay.

