



YAYASAN PENDIDIKAN NURUL FALLAH CIKALONGKULON
SMP NURUL FALLAH

Kampung Cijati, Desa Mekarmulya, Kec. Cikalongkulon, Kabupaten Cianjur 43291
Telp./Fax. (0263) 2311655 - Email : nurulpalahcikalongkulon@gmail.com



PENILAIAN AKHIR SEMESTER GANJIL
TAHUN PELAJARAN 2024/2025
LEMBAR SOAL

Mata Pelajaran : SENI BUDAYA Hari / tanggal :
Kelas : VII (tujuh) Waktu : 90 menit

Pilih dan hitamkan dengan pensil pada huruf a, b, c atau d yang merupakan jawaban paling tepat !

1. Cabang seni yang bentuknya terdiri atas unsur-unsur rupa, yaitu garis, bidang, bentuk, tekstur, ruang, dan

warna disebut....

- a. Seni drama b. Seni musik c. Seni rupa d. Seni teater

2. Berdasarkan fungsinya karya seni rupa dibagi 2, yaitu....

- a. Seni Murni dan Seni Terapan c. Seni Terapan dan Seni Keindahan
b. Seni Murni dan Seni Keindahan d. Seni Pakai dan Seni Kebutuhan

3. Berikut yang bukan bagian dari unsur-unsur seni rupa adalah....

- a. Model b. Titik c. Garis d. Bentuk

4. Karya seni rupa yang mengutamakan fungsi pakai dan dinikmati mutu seninya disebut....

- a. Dwimatra b. Trimatra c. Seni Murni d. Seni Terapan

5. Berdasarkan jenis matra/dimensinya karya seni rupa dibagi 2, yaitu....

- a. 4 dimensi dan 5 dimensi c. 2 dimensi dan 3 dimensi
b. 1 dimensi dan 2 dimensi d. 3 dimensi dan 4 dimensi

6. Yang paling sederhana dari unsur-unsur seni rupa adalah....

- a. Garis b. Titik c. Bentuk d. Bidang

7. Sifat permukaan suatu benda halus, kasar, dan licin disebut dengan....

- a. Warna b. Bidang c. Tekstur d. Bentuk

8. Berikut **bukan** merupakan tahap-tahap dalam menggambar yaitu....

- a. Persiapan b. Merekam dan Meniru c. Proses Menggambar d.

Finishing

9. Berikut ini manakah kelompok warna yang termasuk warna primer....

- a. Hijau, ungu, dan jingga b. Merah, kuning, dan biru c. Merah, biru, dan putih d.
Hitam dan putih

10. Aktivitas membuat goresan yang membentuk suatu objek tertentu disebut aktivitas....

- a. Memahat b. Menggambar c. Mewarnai d. Menggores

11. Dibawah ini yang termasuk karya seni rupa Dwimatra adalah....

- a. Gambar dan patung b. Patung dan gerabah c. Lukisan dan Gambar d. Patung dan relief

12. Gambar yang mengambil objek benda-benda mati disebut gambar bentuk....

- a. Flora b. Fauna c. Benda Alam d. Geometris

13. Spanduk, baliho, pamflet, benner dan iklan merupakan contoh seni rupa jenis....

- a. Gambar b. Lukisan c. Grafis d. Kriya

14. Berikut ini yang **tidak** termasuk karya seni terapan yaitu....

- a. Lemari b. Lukisan c. Pakaian d. Sepatu


15. Perhatikan gambar berikut ini!



Gambar di samping adalah motif ragam hias yang berasal dari....

- a. Bali b. Jawa Tengah c. Lampung
d. Papua

16. Perhatikan gambar berikut ini!



Motif hias di samping yaitu motif hias geometris yang disebut dengan....

- a. Tumpal b. Pilin c. Meander c. Swastika



17. Perhatikan gambar berikut ini!




Ragam hias di samping bermotif...

- a. Flora b. Fauna c. kawung d. Lar

18. Berikut ini merupakan gambar dari motif hias pilin yang merupakan motif hias geometris adalah....



19. Berikut ini merupakan gambar dari motif hias kawung yang yaitu....



20. Musik yang diturunkan secara turun temurun dan diakui oleh daerah disebut


- a. Musik rakyat b. Musik klasik c. Musik populer d. Musik modern

21. Bernyanyi oleh banyak orang dengan satu suara disebut....

- a. Paduan suara b. Solo c. Unisono d. Vokal grup

22. Jenis suara rendah laki-laki yaitu....

- a. Tenor b. Sopran c. Bass d. Alto

23.  gambar disamping adalah jenis gambar not.

- a. Angka b. Kres c. Mol d. Not balok

24. Tanda kunci 'G' dibawah ini adalah....

- a.  b.  c.  d. 

25. Nada 'fa' pada not angka dibawah ini adalah....

- a. 2 b. 3 c. 4 d. 5

26. Cara pengucapan kata yang baik dan jelas dalam bernyanyi disebut....

- a. Pitch b. Phrasing c. Intonasi d. Artikulasi

27. Jenis pernafasan yang baik untuk bernyanyi yaitu pernafasan....

- a. Dada b. Diafragma c. Mulut d. Hidung

28. Lagu *Sang Bumi Ruwa Jurai* berasal dari daerah Lampung diciptakan oleh....

- a. Andi Ahmad b. Syaiful Anwar c. Raja Sangun d. Ipung Bainet

29. Dibawah ini contoh lagu yang berasal dari daerah Lampung yaitu.....

- a. Tanoh Lado b. Gundul-gundul Pacul c. Tanase d. Bubui Bulan

30. Berikut adalah nama pencipta lagu Indonesia Raya....


- a. C. Simanjutak b. Ibu Sud c. Kusbini d. W.R Supratman

31. Dibawah ini manakah yang termasuk alat musik tiup....

- a. Gitar b. Angklung c. Recorder d. Gendang

32. Angklung adalah alat musik yang berbentuk....

- a. Batangan b. Bilah c. Tabung d. Lempengan


33.  Angklung adalah alat musik yang berasal dari Jawa Barat yang terdaftar sebagai

Karya Agung Warisan Budaya Lisan dan Nonbendawi Manusia oleh

UNESCO

sejak...

- a. September 2010 c. September 2011
b. November 2010 d. November 2011

34.  Alat musik pada gambar disamping disebut dengan....

- a. Calung b. Sasando c. Saluang d. Tifa

35. Alat musik di bawah ini berasal dari Sumatra Barat dan dibunyikan dengan cara ditiup yaitu....

- a. Seruling b. Floit c. Foi mere d. Saluang

36. Gerak ritmis adalah pengertian tari menurut

- a. Soedarsono b. Yulianti Parani c. Curt Sachs d. Kamus Besar Bahasa Indonesia

37. Jenis tarian yang tidak terikat oleh aturan-aturan tradisi ataupun daerah tertentu. Tarian ini diciptakan

dengan ide dan konsep yang baru yaitu....

- a. Tari tradisional b. Tari daerah c. Tari rakyat d. Tari kreasi baru

38. Berikut Unsur-unsur yang **tidak** terlibat atau mendukung di dalam tari, yaitu....

- a. Tenaga b. Ruang c. Penari d. Waktu

39. Berapakah jumlah penari dalam tari sigeh pengunten....

- a. 1 b. 2 c. 4 d. 5

40. Berikut adalah fungsi tari sembah Sigeh Pangunten dalam adat istiadat Lampung....

- a. Penyambutan Masa Panen c. Penyambutan kelahiran anak
b. Salam upacara pernikahan d. Penyambutan tamu kehormatan