

PETUNJUK PENGGUNAAN



Berdoalah sebelum mulai belajar



Kerjakan pertanyaan - pertanyaan dalam soal secara mandiri



Kerjakan dengan menggunakan hp atau apabila terkendala bisa menuliskan jawaban di buku, kemudian bisa dikirimkan melalui whatsapp group

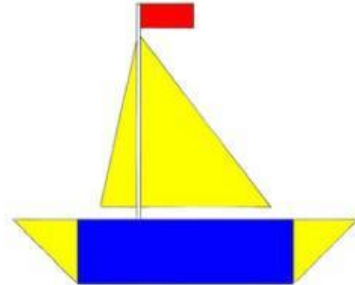


Jika ada hal yang belum dimengerti, bisa bertanya kepada Ibu Guru



Kegiatan I Mari Mengamati

Amati gambar - gambar yang ada di bawah ini!



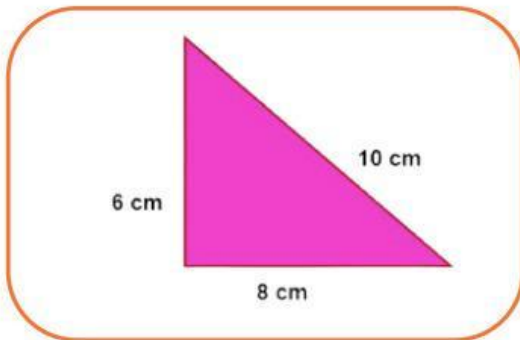
Kelompokkan benda benda diatas sesuai dengan bentuknya!

Persegi	Persegi Panjang	Segitiga
Segilima	Segienam	Gabungan

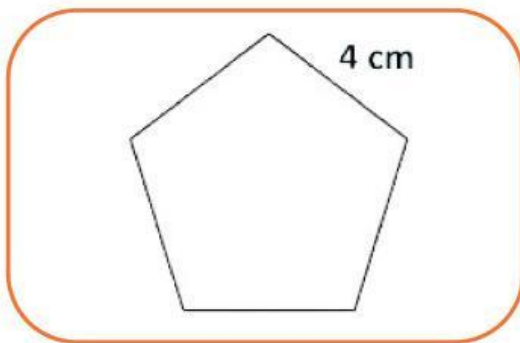


Kegiatan 2 Mari Menghitung

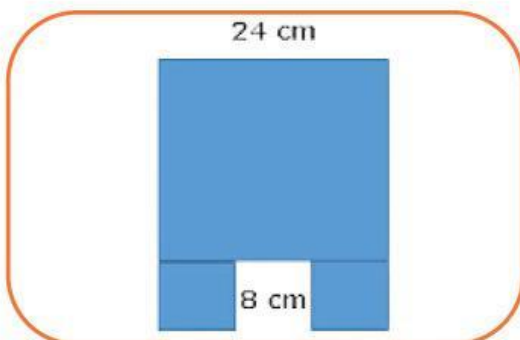
Pasangkan bangun datar di bawah ini dengan jawaban keliling yang benar!



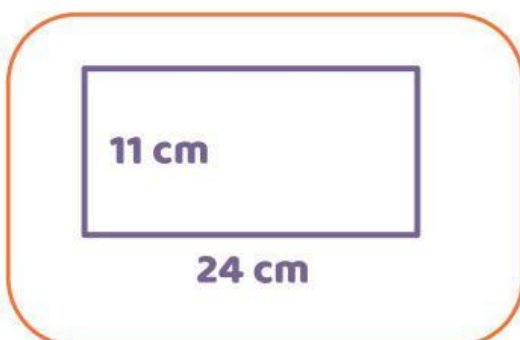
• 20 cm



• 128 cm



• 23 cm



• 70 cm



Kegiatan 3 Mari Menganalisis

Jawablah soal cerita yang ada dibawah dengan cermat dan teliti!

1

Pak Ahmad memiliki sebuah taman berbentuk persegi dengan panjang sisi 10 meter. Ia ingin memasang pagar di sekeliling taman. Berapa panjang pagar yang dibutuhkan Pak Ahmad?

Jawaban:

2

Rara memiliki selembar kertas berbentuk persegi panjang dengan panjang 15 cm dan lebar 10 cm. Dina ingin menghias pinggir kertas dengan pita. Berapa panjang pita yang dibutuhkan?

Jawaban:

3

Sebuah bendera berbentuk segitiga siku-siku memiliki panjang alas 5 cm dan tinggi 4 cm. Panjang sisi miringnya diketahui 7 cm. Berapa keliling bendera tersebut?

Jawaban:



Kegiatan 4 Kesimpulan

Setelah mengerjakan pertanyaan - pertanyaan tadi, tuliskan kesimpulan yang didapatkan. Tuliskan 2 - 3 kalimat!!



Kegiatan 5 Refleksi



“ Bagaimana pembelajaran hari ini? ”

Pilih salah satu

