

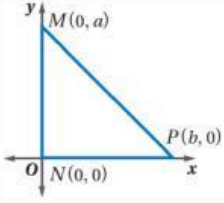


الاسم /
الفصل /

#خمسة بلصة

اختر الإجابة الصحيحة من بين الإجابات المعطاة

في الشكل المقابل



طول \overline{MN} يساوي a وحدة، \overline{NP} يساوي b وحدة

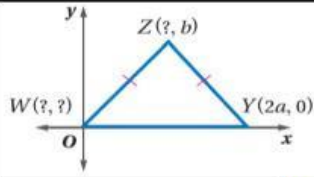
خطأ

ب

صح

د

في الشكل المقابل احداثيات النقطة W هي



(a,b)

د

(4a,b)

ج

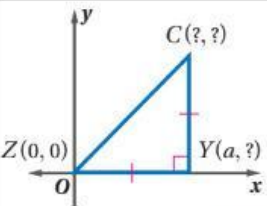
(0,b)

ب

(0,0)

د

في الشكل المقابل احداثيات النقطة C هي



(a,a)

د

(0,a)

ج

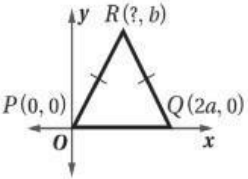
(2a,0)

ب

(a,0)

د

ما إحداثيات النقطة R
في المثلث المجاور؟



(4a, b)

ب

($\frac{a}{2}$, b)

د

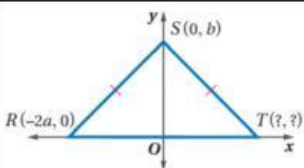
($\frac{a}{4}$, b)

د

(a, b)

ج

في الشكل المقابل احداثيات النقطة T هي



(b, 0)

د

(0, 0)

ج

(2a,0)

ب

(2a, b)

د