




# LKPD



Lembar Kerja Peserta Didik

**MATEMATIKA KELAS 2**

## MENGENAL BANGUN RUANG



Nama : \_\_\_\_\_

Kelas : \_\_\_\_\_

Hari/ Tanggal : \_\_\_\_\_

**Mata Pembelajaran : Matematika**

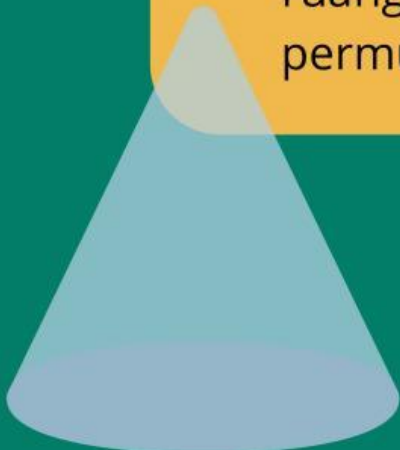
**Fase/Kelas/ : A/ 2**

**Alokasi Waktu : 15 menit**

**Capaian Pembelajaran : Peserta didik dapat mengenal berbagai bangun ruang (kubus, balok, tabung, kerucut, dan bola), Peserta didik dapat menamai bangun ruang (kubus, balok, tabung, kerucut, bola) sesuai dengan benda-benda konkret disekitarnya, peserta didik mendeskripsikan perbedaan bangun datar dan bangun ruang.**

## **Tujuan**

1. Peserta didik dapat membedakan antara Bangun datar dan Bangun ruang.
2. Peserta didik dapat mengenal berbagai bangun ruang (kubus, balok, tabung, kerucut, dan bola).
3. Peserta didik dapat menamai berbagai bangun ruang (kubus, balok, tabung, kerucut, dan bola) dengan benda-benda konkret di sekitarnya.
4. Peserta didik dapat mengelompokkan bangun ruang yang memiliki permukaan datar dan permukaan lengkung.





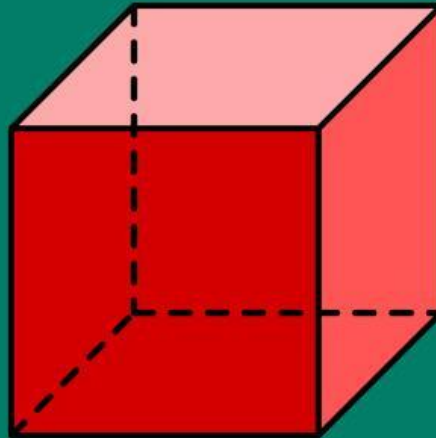
## **Petunjuk Pengerjaan**

1. Siapkan handphone untuk mengerjakan E-LKPD
3. Pastikan handphone terhubung dengan internet
4. Isilah nama , kelas dan hari/ tanggal pengerjaan
5. Bacalah dengan cermat setiap petunjuk dalam E-LKPD
6. Mulailah mengerjakan perintah dalam E-LKPD
7. Periksa kembali sebelum dikumpulkan
8. Klik finish apabila telah selesai mengerjakan E-LKPD
9. Presentasikanlah hasil kerjamu di depan kelas



# KEGIATAN 1

Isilah titik-titik dibawah ini!



Nama:.....

Bentuk sisi: .....

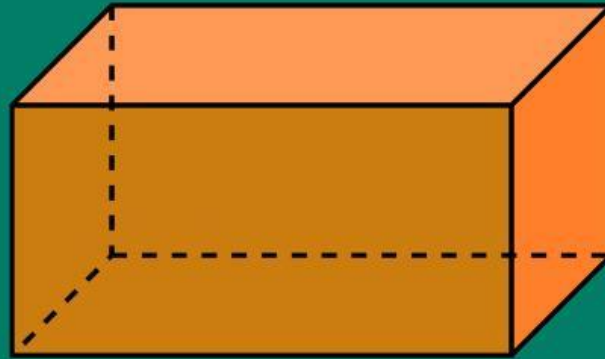
Banyak sisi: .....

Banyak titik sudut: .....

Ciri-ciri: .....

# KEGIATAN 1

Isilah titik-titik dibawah ini!



Nama:.....

Bentuk sisi: .....

Banyak sisi: .....

Banyak titik sudut: .....

Ciri-ciri: .....

# KEGIATAN 1

Isilah titik-titik dibawah ini!



Nama:.....

Bentuk sisi: .....

Banyak sisi: .....

Banyak titik sudut: .....

Ciri-ciri: .....

# KEGIATAN 2

Tuliskanlah nama benda dan bentuk bangun bangun ruang dari gambar berikut!



.....

.....



.....

.....



.....

.....



# KEGIATAN 3

Carilah benda-benda di sekitarmu yang berbentuk kubus, balok, tabung, kerucut dan balok!

**PERNYATAAN**

**Bentuk Bangun Ruang**

**Kardus**

**Topi ulang tahun**

**Pipa paralon**

**Bola Basket**

**Kulkas**