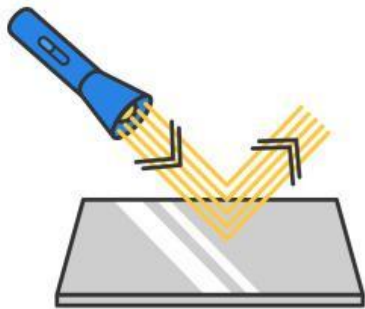


Nama:

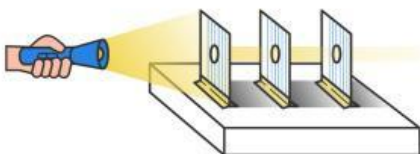
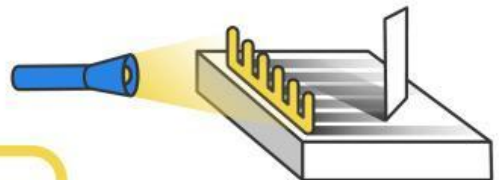
Kelas:

# MENGIDENTIFIKASI SIFAT CAHAYA



Bagaimana prinsip kerja lampu senter memanfaatkan sifat pemantulan cahaya?

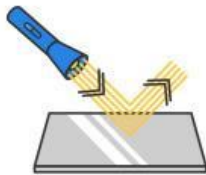
Apa yang akan terjadi jika kita melakukan percobaan ini di ruangan yang gelap? Jelaskan!



Apa yang akan terjadi jika lubang pada karton dibuat lebih besar?

# AYO PASANGKAN!

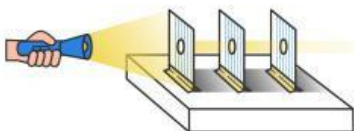
Pasangkanlah gambar dengan sifat-sifat cahaya berikut ini.



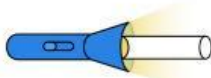
Merambat lurus



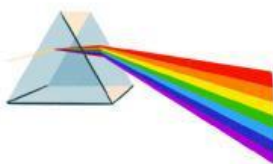
Bisa dipantulkan



Menembus benda bening



Bisa dibiaskan



Bisa diuraikan