



ÂNGULOS 6º ANO

AS IMAGENS ABAIXO, FORAM CRIADAS PELOS ALUNOS DURANTE NOSSA AULA

PROFª. EDINA VIEIRA

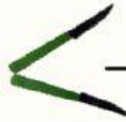


1

OSERVE AS IMAGENS ABAIXO E ESREVA A CLASSIFICAÇÃO EM RELAÇÃO AO ÂNGULO DE CADA UM














2

ALGUNS ALUNOS DO 6º ANO, CONSEGUIRAM CRIAR MAIS DE UMA ÂNGULO COM SEUS OBJETOS ESCOLARES. COMO PODEMOS CLASIFICAR CADA IMAGEM? ÂNGULOS COMPLEMENTARES OU SUPLEMENTARES




() COMPLEMENTARES

() SUPLEMENTARES



() COMPLEMENTARES

() SUPLEMENTARES



() COMPLEMENTARES

() SUPLEMENTARES



3

OS ALUNOS DO 6º ANO UTILIZARAM O CORPO PARA REPRESENTAR ÂNGULOS.

TODOS OS ÂNGULOS CRIADO POR ELES SÃO:



AGUDO ()



AGUDOS()



OBTUSO ()



RETO () () RASO ()

