

Lembar Kerja Peserta Didik

# LKPD

## DIAGRAM

Nama : \_\_\_\_\_

Kelas : \_\_\_\_\_



# LKPD



Satuan Pendidikan

Sekolah Dasar

Mata Pelajaran

Matematika

Fase/Kelas

A/I

Bab

8

Topik

Data

Elemen

Analisa Data dan Peluang

## Tujuan Kegiatan Pembelajaran:

1. PESERTA DIDIK DAPAT MENGUMPULKAN DATA DARI BANYAK BENDA SESUAI KATEGORINYA MENGGUNAKAN PICTOGRAM DENGAN BENAR
2. PESERTA DIDIK DAPAT MENYAJIKAN DATA DARI BANYAK BENDA SESUAI KATEGORINYA MENGGUNAKAN PICTOGRAM DENGAN BENAR





# PETUNJUK UMUM



















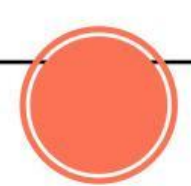






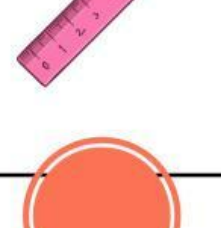

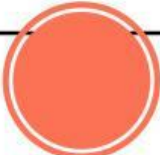
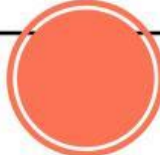

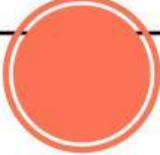
1. BACALAH LEMBAR KERJA PESERTA DIDIK (LKPD) INI DENGAN SEKSAMA.
2. KERJAKAN SEMUA INSTRUKSI DAN SOAL-SOAL YANG ADA SECARA BERKELOMPOK.
3. DISKUSIKANLAH SETIAP PERMASALAHAN DALAM KELOMPOKMU, TIDAK DIPERKENANKAN MENANYAKAN PADA KELOMPOK LAIN. APABILA ADA HAL YANG KURANG JELAS ATAU KALIAN MENGALAMI KESULITAN, MINTALAH PENJELASAN KEPADA GURU.
4. SEMUA ANGGOTA DALAM KELOMPOK HARUS BISA BEKERJA SAMA MENYELESAIKAN PERMASALAHAN-PERMASALAHAN YANG ADA. SEMUA KEGIATAN SISWA DALAM KELOMPOK AKAN DINILIAI OLEH GURU. JADI AKTIFLAH DALAM DISKUSI KELOMPOK.
5. BERDOA'ALAH SEBELUM BELAJAR, SEMOGA KITA MENDAPATKAN ILMU YANG BERMANFAAT.

# LATIHAN

**NAMA :** .....

**KELAS :** .....

**1** Perhatikan diagram berikut ini dan berikan jumlah benda yang sesuai di setiap tabel dibawah ini!

Buku	Pensil	Penghapus	Penggaris
			
			
			
			
			
			
			
			
			

# LATIHAN

## Pertanyaan :

2

Jawablah pertanyaan sesuai dengan isi dalam diagram!

1. Benda yang jumlahnya ada 7 adalah.....
2. Benda yang jumlahnya ada 10 adalah.....
3. Benda yang paling banyak jumlahnya adalah.....
4. Benda yang paling sedikit jumlahnya adalah.....
5. Jumlah pensil lebih.....dari jumlah buku
6. Jumlah penghapus lebih.....dari jumlah penggaris

