


perhatikan video berikut ini



perhatikan materi presentasi berikut ini



Nama : \_\_\_\_\_


Kelas : \_\_\_\_\_

Lembar Kerja Peserta Didik

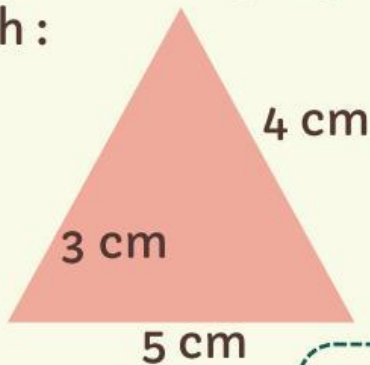
# BANGUN DATAR

Jawablah pertanyaan berikut dengan benar!

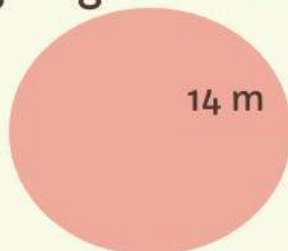
- 1 Luas sebuah persegi dengan panjang sisi 8 cm adalah :



- 2 Luas dan keliling segitiga disamping tersebut adalah :



- 3 Sebuah lingkaran memiliki jari-jari 14 m. Hitunglah keliling lingkaran tersebut!



## B.Esay

1. Sebutkan 3 contoh bangun datar yang memiliki simetri lipat !

2. Jika Panjang alas segitiga 10 cm dan tingginya 5 cm, berapa luas segitiga tersebut?

3. arya Memiliki sebuah taman berbentuk persegi pajang dengan panjang 15 m dan lebar 10 m . Berapakah luas taman tersebut?

4. Sebuah papan berbentuk trapesium memiliki panjang sisi sejajar masing-masing 8 cm dan 12 cm,serta tinggi 6 cm. Hitung luas papan tersebut!

5. Darimanakah asal usul simbo ( Phi ) pada lingkaran,Berikan penjelasan!