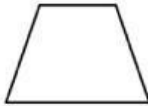
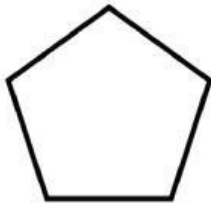




# TIPOS DE POLÍGONOS

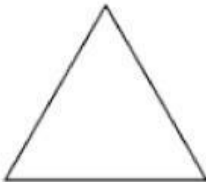
1. ¿Cuántos lados tiene un triángulo?
2. ¿Cuántos vértices tiene un pentágono?
3. ¿Cuántos lados tiene un cuadrilátero?
4. La siguiente imagen es un cuadrilátero 
5. Une con flechas.



PENTÁGONO



TIENE 3 LADOS



TIENE 6 ÁNGULOS



TIENE 4 LADOS