



5

ORGANIZA LA INFORMACIÓN, ELIGE LA OPERACIÓN Y RESPONDE A LA PREGUNTA

En un antiguo tren, cuando iba lleno, viajaban en cada vagón 28 personas.  
Imagínate que se llevaran a los 420 estudiantes de mi cole a un largo viaje  
¿Cuántos vagones de ese tren se llenarían?



¿Qué tres cosas se relacionan en el problema?

¿Qué me dan y qué me piden?

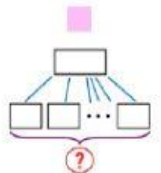
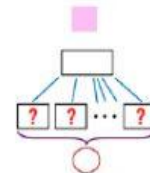
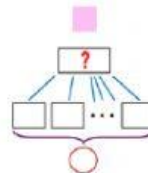
- Número de partes →
- Valor de cada parte →
- Total →



Multiplicación

☐

División

☐


Elige

Respuesta:

