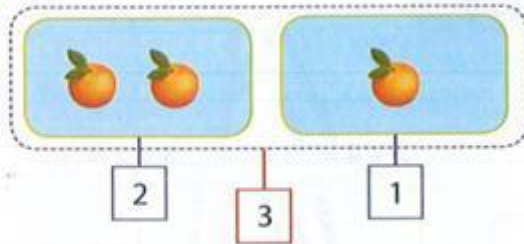


PHIẾU ÔN TẬP TOÁN - TUẦN 12

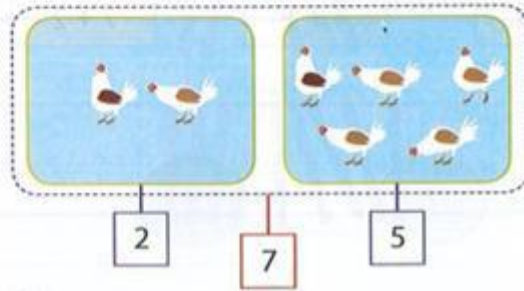
Phép cộng trong phạm vi 10

1. Số?



$1 + 2 = \square$

$2 + 1 = \square$

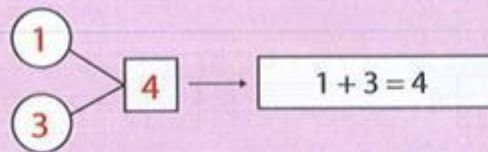


$2 + 5 = \square$

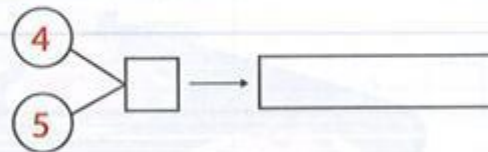
$5 + 2 = \square$

2. Số? (Theo mẫu).

$1 + 3 = ?$



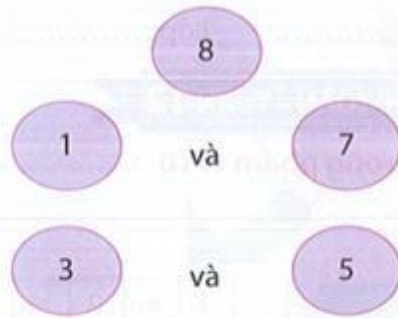
a) $4 + 5 = ?$



b) $3 + 3 = ?$



3. Số?



$$1 + 7 = 8$$
$$7 + 1 = 8$$

$$\dots + \dots = 8$$
$$\dots + \dots = 8$$

4. Tính nhẩm.

$1 + 2 = \dots$

$1 + 3 = \dots$

$2 + 4 = \dots$

$3 + 2 = \dots$

5. Nói.

$1 + 6$

$3 + 4$

$4 + 1$

$7 + 2$



6. Số?

$6 + 2 \rightarrow \square$

$4 + 2 \rightarrow \square$

$3 + 4 \rightarrow \blacksquare$

7. <, >, =?

$6 + 3 \square 8$

$5 \square 3 + 2$

$7 \square 3 + 3$

8. Quan sát tranh rồi điền số thích hợp vào ô trống để được hai phép cộng.



	+		=	
	+		=	