

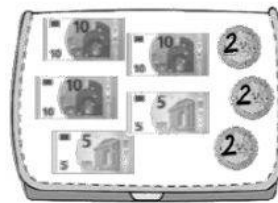
	<b>DEUTSCHE SCHULE BARRANQUILLA</b> Examen/Test/Taller 2. Período – Klasse 2		
	Datum:	Schülerin/Schüler:	
Fach:			

## 1. Mit Geld rechnen


a. Wie viel Euro? / ¿Cuántos euros hay?



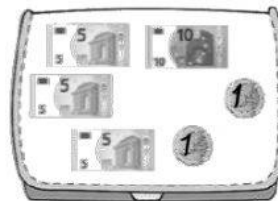
\_\_\_\_\_ Euro



\_\_\_\_\_ Euro




\_\_\_\_\_ Euro




\_\_\_\_\_ Euro

b. Berechne das Rückgeld. / Calcula cuánto dinero reciben de cambio.



a) Linda kauft: Sie gibt: Sie bekommt zurück:



b) Finn kauft: Er gibt: Er bekommt zurück:



## 2. Hunderterfeld:

Rechne und zeige am Hunderterfeld. Zehner und Einer. / ¿Cuál es el número representado en barras y puntos?

<table border="1"><tr><td>Z</td><td>E</td></tr><tr><td></td><td></td></tr></table>	Z	E				<table border="1"><tr><td>Z</td><td>E</td></tr><tr><td></td><td></td></tr></table>	Z	E			
Z	E										
Z	E										
<table border="1"><tr><td>Z</td><td>E</td></tr><tr><td></td><td></td></tr></table>	Z	E				<table border="1"><tr><td>Z</td><td>E</td></tr><tr><td></td><td></td></tr></table>	Z	E			
Z	E										
Z	E										
<table border="1"><tr><td>Z</td><td>E</td></tr><tr><td></td><td></td></tr></table>	Z	E				<table border="1"><tr><td>Z</td><td>E</td></tr><tr><td></td><td></td></tr></table>	Z	E			
Z	E										
Z	E										

## 3. Zahlen zerlegen.

Mit Zehner und Einer rechnen. / Descomponer los números en decenas y unidades.

$$17 = \underline{10} + \underline{7}$$

$$57 = \underline{\quad} + \underline{\quad}$$

$$45 = \underline{\quad} + \underline{\quad}$$

$$63 = \underline{\quad} + \underline{\quad}$$

$$39 = \underline{\quad} + \underline{\quad}$$

$$\text{b) } 62 = \underline{\quad} + \underline{\quad}$$

$$87 = \underline{\quad} + \underline{\quad}$$

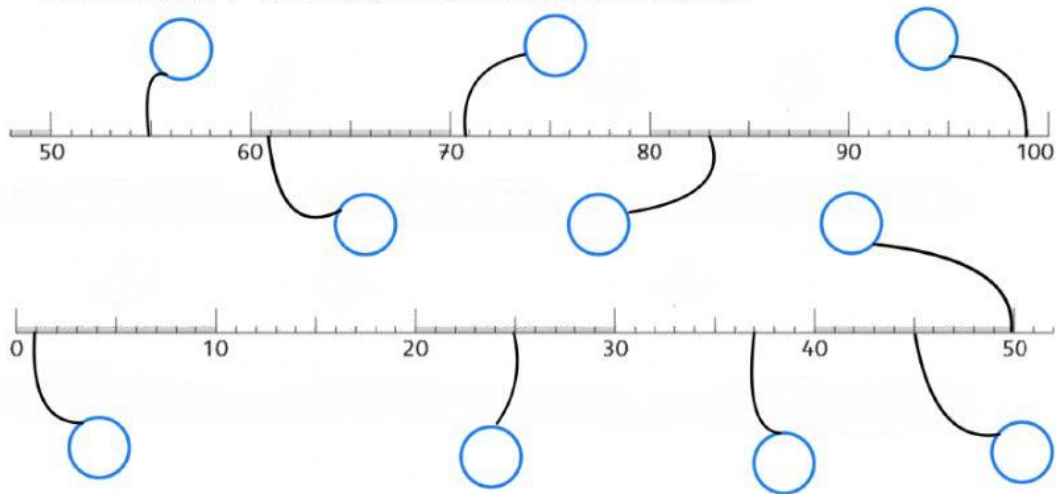
$$65 = \underline{\quad} + \underline{\quad}$$

$$78 = \underline{\quad} + \underline{\quad}$$

$$53 = \underline{\quad} + \underline{\quad}$$

#### 4. Zahlenreihe bis 100

Welche Zahl? / Ubica los números en la recta numérica.



#### 5. Plus- und Minusaufgaben

Rechne geschickt. / Resuelve las sumas y restas.

$50 + \underline{\quad} = 100$

$90 + \underline{\quad} = 100$

$20 + \underline{\quad} = 100$

$0 + \underline{\quad} = 100$

$10 + \underline{\quad} = 100$

$40 + \underline{\quad} = 100$

$84 - 60 = \underline{\quad}$

$99 - 10 = \underline{\quad}$

$41 - 30 = \underline{\quad}$

$95 - 80 = \underline{\quad}$

$63 - 20 = \underline{\quad}$

$74 - 50 = \underline{\quad}$

#### 6. Zahlen auf Deutsch

Diktat: Hör die Zahlen zu und schreibe. / Escucha atentamente los números y escríbelos.

a. .

b. .

c. .

d. .

e. .