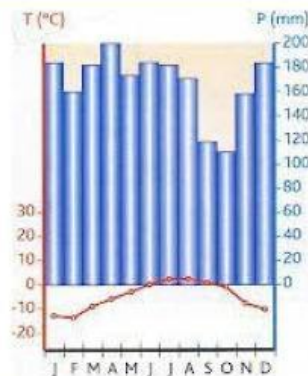
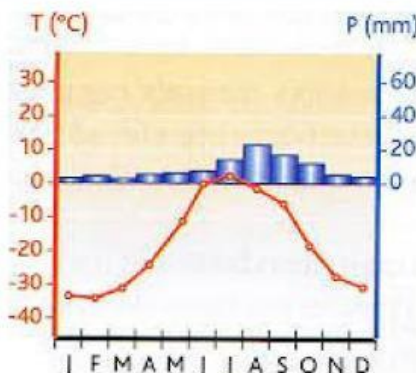
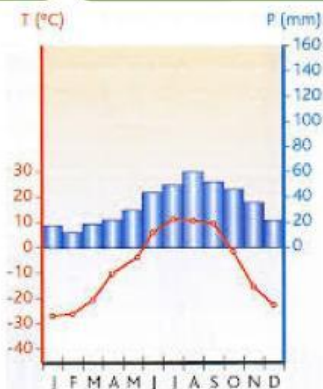


Unidade 2 - O Meio Natural

Clima Frio



Observa os gráficos termopluviométricos 1, 2 e 3 e associa-os aos respectivos climas frios.



1

2

3



Corresponde os gráficos termopluviométricos 1, 2 e 3, às respectivas características.

Características	Gráfico
Invernos glaciares.	
Apenas existe uma única estação do ano: o inverno.	
Verões muito curtos, normalmente um a dois meses.	
Nas áreas de maior altitude, as neves são perpétuas.	
Localiza-se nas latitudes do Círculo Polar Ártico.	
Ocorrência de precipitação em forma de neve.	
Precipitação abundante e permanente ao longo dos meses do ano.	
A temperatura diminui 0,65 °C por cada 100 metros que se sobe em altitude.	
Localiza-se nos polos Norte e Sul.	
Precipitação muito reduzida na maioria dos meses do ano.	

Nome: \_\_\_\_\_



Turma: \_\_\_\_\_ N.º: \_\_\_\_\_



Data: \_\_\_\_/\_\_\_\_/\_\_\_\_



Bom Trabalho!