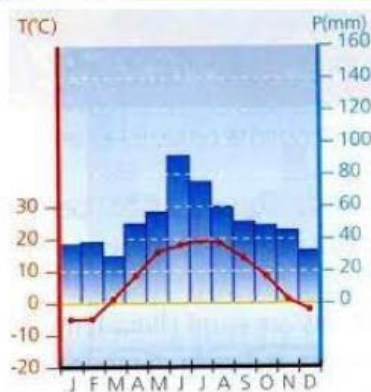


Unidade 2 - O Meio Natural

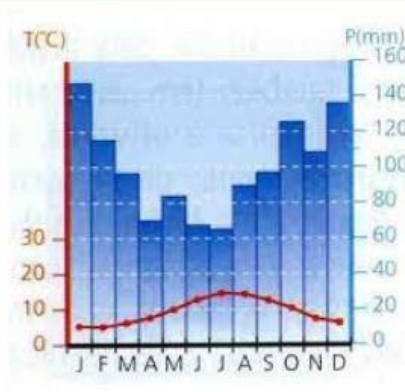
Clima Temperado



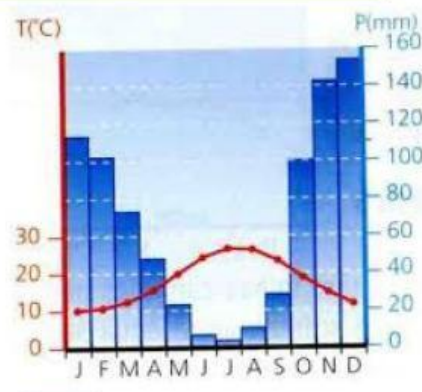
Observa os gráficos termopluiométricos 1, 2 e 3 e associa-os aos respetivos climas temperados.



1



2



3



Corresponde os gráficos termopluiométricos 1, 2 e 3, às respetivas características .

Características	Gráfico
Possui verões longos, quentes e secos.	
A precipitação é abundante e regular durante o ano.	
Os invernos são suaves e muito pluviosos.	
Os verões são quentes e relativamente pluviosos.	
Os invernos são rigorosos, normalmente com temperaturas negativas.	
Ocorrência de precipitação em forma de neve.	
Precipitação moderada entre os meses de outubro a março.	
Localiza-se nas latitudes médias, junto aos oceanos.	
Localiza-se nas latitudes médias, no interior dos continentes.	
A ausência de precipitação ocorre nos meses mais quentes do ano.	

Nome: \_\_\_\_\_



Turma: \_\_\_\_\_ N.º: \_\_\_\_\_



Data: \_\_\_\_/\_\_\_\_/\_\_\_\_



Bom Trabalho!