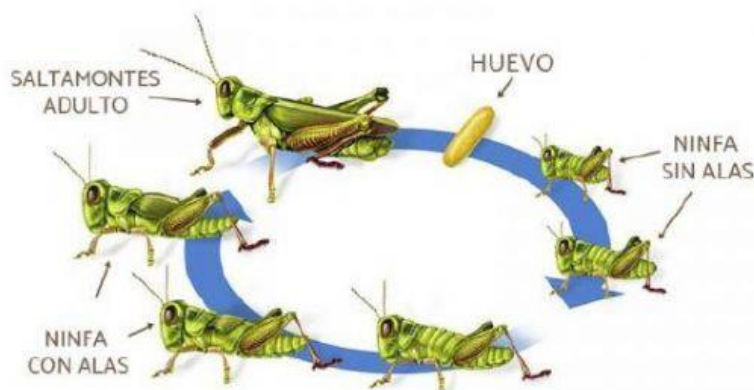


LOS ARTRÓPODOS


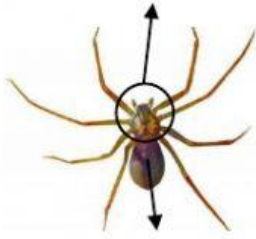
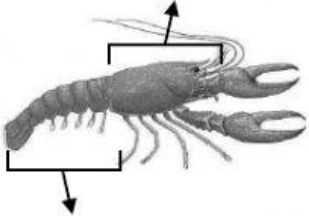
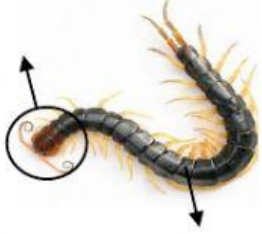
1. Completa:

Los artrópodos son animales _____ con simetría _____. Su cuerpo está dividido en _____ y protegido por una coraza rígida, el _____. Además, están provistos de apéndices _____ (patas, mandíbulas, antenas, etc). Pueden presentar dos tipos de ojos: _____ (unas pequeñas lentes) y _____ (formados por miles de lentes). Los artrópodos acuáticos respiran por _____, y los terrestres, en su mayoría, por _____.

2. Señala qué tipo de metamorfosis se representa en cada caso:



3. Nombra las partes en que se divide el cuerpo de los siguientes invertebrados y completa la tabla.

CLASE	Segmentos del cuerpo	Patas	Antenas	Alas
				
				
				
				

4. Clasifica los siguientes animales:

