


# LKPD IPA



## Magnet






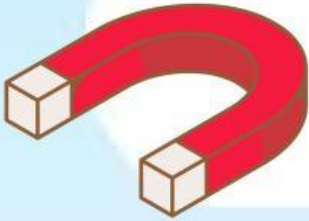
**NAMA LENGKAP:**

**KELAS :**



# Speak

sebutkan nama magnet di  
bawah ini!



# Listening

Dengarkan audio lalu jawab pertanyaan

play mp3



**jelaskan 4 macam magnet  
beserta bentuknya**

- a.
- b.
- c.
- d.



# CHECK BOXES

## sifat sifat magnet

Tandai dengan centang yang pas untuk sifat-sifat magnet, biar makin nempel!

magnet dapat menarik benda tertentu

magnet memiliki 2 kutub yaitu kutub utara dan kutub selatan

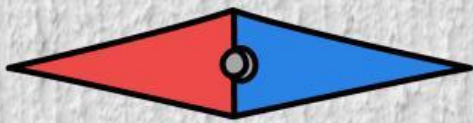
kutub magnet senama tolak menolak

## *jenis-jenis magnet*


cocokkan gambar dengan kata yang sesuai dengan cara menarik garis!



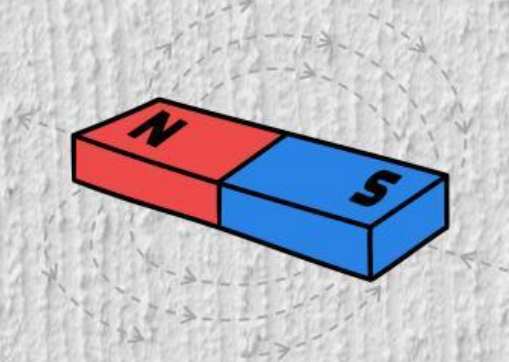
**Magnet silinder**



**Magnet Batang**



**Magnet Tapal Kuda**

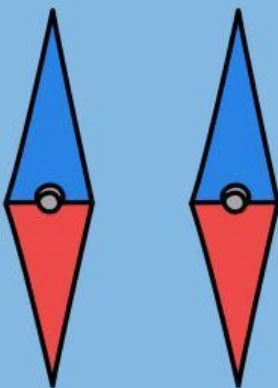
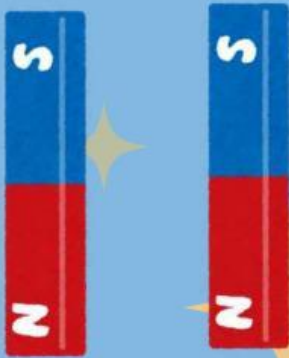



**Magnet Jarum**



# Simple Text

Pilihlah **Tolak menolak** atau **tarik menarik** pada kolom berdasarkan gambar dibawah ini!



# Drag and Drop

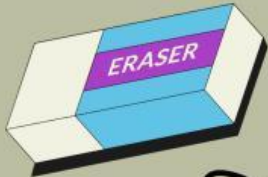
Pilihlah benda di bawah ini. serta cocokkan mana yang termasuk magnetik dan non magnetik!



Magnetik



Non Magnetik



Non Magnetik



Magnetik





# SELECT

berikut benda yang bisa ditarik oleh magnet ?

**A.**

gelas plastik

**B.**


gunting

**C.**

sandal jepit

**D.**

penggaris plastik



# Word Search

Temukan kata-kata terkait macam-macam magnet pada teka-teki dibawah ini!

>Ladam

>Silinder

>Batang

>Jarum

E	O	S	P	V	F	M	X	D	N
I	A	N	I	D	L	H	W	V	X
X	E	B	J	L	C	Z	M	K	P
H	S	V	A	Q	I	G	Z	R	X
C	V	D	R	T	H	N	G	S	U
Z	A	F	U	S	A	D	D	W	H
M	L	Q	M	P	A	N	K	E	I
N	B	W	G	T	Y	E	G	O	R

# Open Answer

**Sebutkan benda apa saja yang termasuk magnetic dan non magnetik. minimal 5!**





Setelah menyelesaikan latihan diatas,  
berilah nilai pada pemahaman yang  
telah kamu peroleh!

• Sangat Baik

• Paham

• Kurang Paham

• Tidak Paham

