




LKPD

BAGIAN TUBUH TUMBUHAN



Nama :

Kelas :

Mapel :



Ict Pembelajaran IPA

JOIN



Petunjuk

Hubungkan pada nama bagian tumbuhan dengan benar!



Akar



Daun



Buah



Batang



Bunga

PLAY MP3

Petunjuk

Dengarkan audio yang membahas tentang bagian tubuh tumbuhan dan Jawablah pertanyaan yang tersedia setelah mendengarkannya

Play mp3 :

1

2



SELECT



Petunjuk

Pilihlah jawaban Dibawah ini dengan benar



Bagian tumbuhan yang berfungsi sebagai tempat berlangsungnya fotosintesis adalah...

- A** Akar
- B** Daun
- C** Batang
- D** Biji



TEXT FIELD

Petunjuk

Isilah kolom dibawah ini dengan nama bagian tumbuhan

1



2



3



WORD SEARCH

Petunjuk

Cari kata dibawah ini baik secara horizontal, maupun vertikal

• Putik

• Biji

• Buah

• Daun

• Akar

• Tanah



H	D	A	U	N	P
A	B	B	I	J	I
K	A	U	S	E	U
A	T	A	N	A	H
R	B	H	R	C	G
P	U	T	I	K	H

LISTENING



Petunjuk

Dengarkan suara berikut dan Pilih jawaban yg benar!

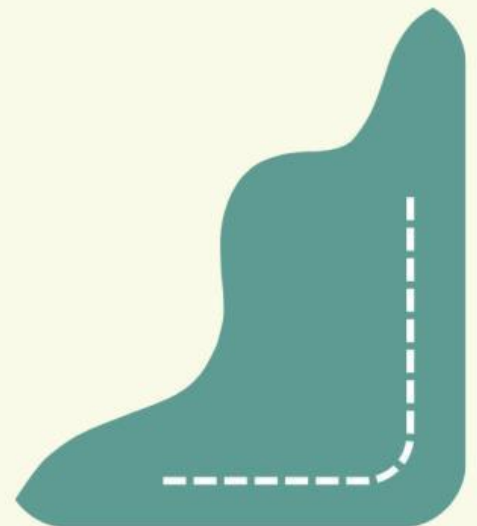


SPEAK



Petunjuk

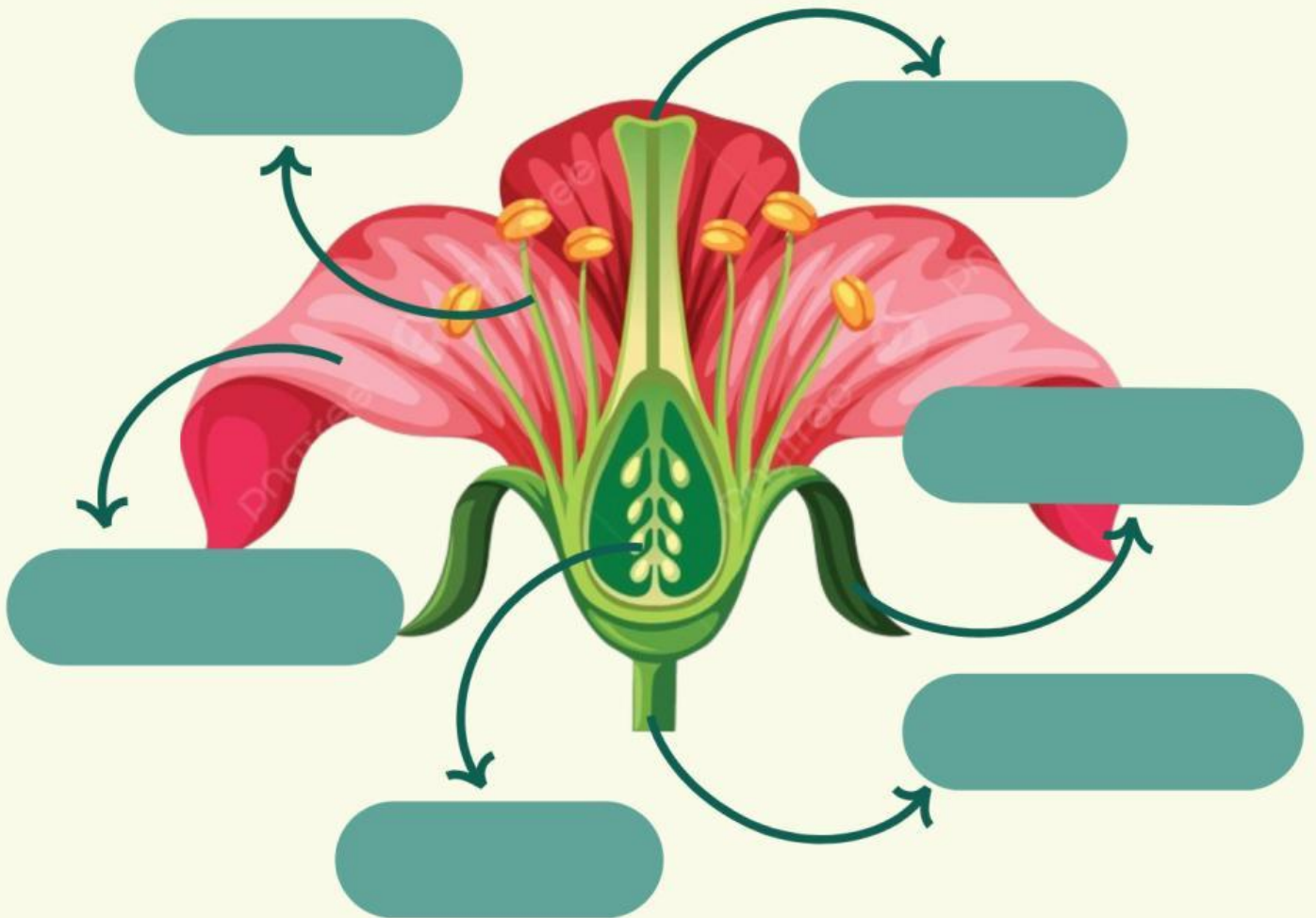
Klik icon mikrofon dan sebutkan nama tanaman
Dibawah ini



DRAG & DROP

Petunjuk

Jodohkan bagian-bagian bunga dengan menyeret label nama bunga ke kolom tanda panah secara tepat



Kepala putik	Mahkota bunga	Bakal biji
Tangkai bunga	Kelopak bunga	Benang sari

CHECKBOXES

Petunjuk

Pilihlah Kotak dibawah ini dengan benar!

- Manakah dibawah ini yg merupakan bagian tumbuhan



- nama bagian tumbuhan Pada gambar tersebut adalah



Akar

Batang

Ranting

OPEN ANSWER



Petunjuk

Jawablah pertanyaan berikut dengan benar!

Jelaskan Bagian mana dari tumbuhan yang berperan untuk bertahan hidup dan melindungi diri ?



A large rectangular box with a solid green border, containing ten horizontal dashed lines for writing an answer.



BOOST VALUE

Petunjuk

Setelah menyelesaikan latihan ini, beri penilaian tentang seberapa paham kamu dengan bagian tubuh tumbuhan.



Saya sudah memahami semua materi dengan baik.



Saya telah memahami sebagian besar materi, namun masih perlu meninjau kembali beberapa bagian.



Saya perlu mengulang pembelajaran materi ini.

