

HAI KELOMPOK CERIA !!

MARI BELAJAR BERSAMA KAK BINTANG



*Nah pasti kalian sudah
mengetahui apa itu bangun
datar kan !!*



Pada kehidupan sehari-hari, kalian selalu menjumpai berbagai bentuk bangun datar loh!!



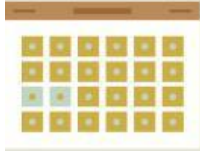
Jam Dinding



Piring Makan



Coba jawab dengan mengklik pada kolom jawaban , gambar dibawah ini merupakan bangun datar apa yah?



Persegi



Segitiga



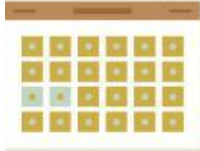
Lingkaran



Layang-layang



Coba jawab dengan mengklik pada kolom jawaban , gambar dibawah ini merupakan bangun datar apa yah?



Persegi



Segitiga



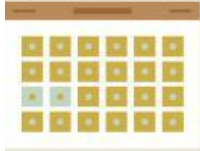
Lingkaran



Layang-layang



Coba jawab dengan mengklik pada kolom jawaban , gambar dibawah ini menggunakan rumus apa untuk mencari keliling?



$4 \times s$



$a \times t$



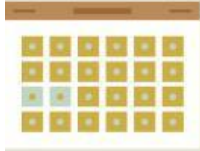
$p \times l$



$2\pi r$



Coba jawab dengan mengklik pada kolom jawaban , gambar dibawah ini menggunakan rumus apa untuk mencari keliling?



$4 \times s$



$a \times t$



$p \times l$



$2\pi r$



Nih kakak kasih video yt tentang bangun datar supaya adik-adik lebih paham tentang bangun datar

