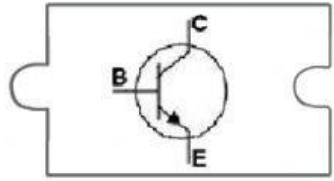
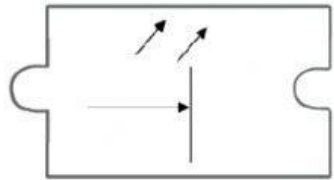
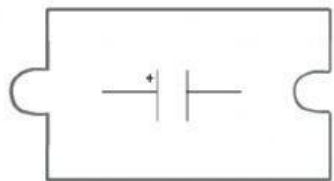
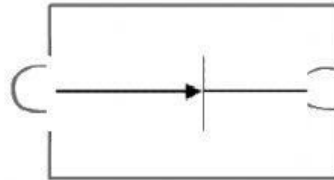
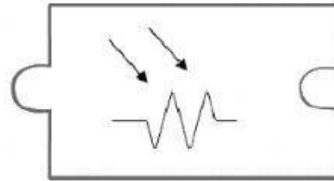
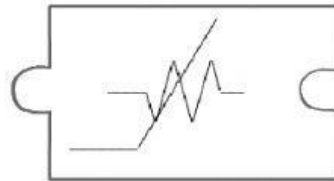




1.- Relaciona cada imagen con su símbolo



Alumno/a:	Curso:	 <b>TECNOLOGÍA</b>		
Estándar de aprendizaje. TEB3.2.1.	4ºESO			
SIMOLOGÍA ELECTRÓNICA	Fecha R.:		Ev.: Lámina	Nota:
	Fecha E.:		BL3-A	