

1. Assinala com **X** a leitura do número 427 608.

- ☐ Quatrocentas e vinte e sete mil e sessenta e oito unidades.
- ☐ Quarenta e duas mil setecentas e sessenta e oito unidades.
- ☐ Quatro mil duzentas e setenta e seis dezenas e oito unidades.
- ☐ Quatrocentas e vinte e sete mil seiscentas e oito unidades.

2. O Pedro está a construir um prisma pentagonal com palhinhas e bolinhas de plasticina, como mostra a figura.

Escreve, nas etiquetas, o número de palhinhas e o número de bolinhas que faltam para terminar esta construção.

palhinhas

bolinhas

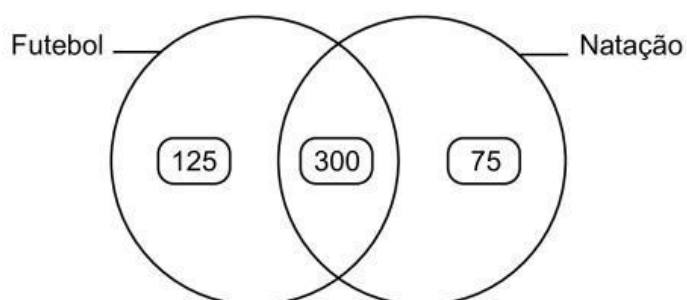


COTAÇÕES

A transportar

3. Na escola da Rita, há alunos que praticam apenas futebol, alunos que praticam apenas natação e alunos que praticam futebol e natação.

No diagrama seguinte, fez-se o registo do número de alunos que praticam estes desportos.



Quantos alunos praticam futebol?

Resposta: \_\_\_\_\_

4. O Pedro e a Rita têm, no total, 538 cromos. A Rita tem mais 54 cromos do que o Pedro.

Quantos cromos tem o Pedro?

Explica como chegaste à tua resposta.

Resposta: \_\_\_\_\_


5. A mãe da Rita colocou um bolo no forno às 17 h 45 min.

5.1. Assinala com **X** o relógio onde está marcada a hora a que a mãe da Rita colocou o bolo no forno.


☐ Relógio A




☐ Relógio B



☐ Relógio C



☐ Relógio D



5.2. O bolo esteve exatamente 50 minutos dentro do forno.

Assinala com **X** a hora a que a mãe da Rita tirou o bolo do forno.

☐ 18 h 55 min

☐ 18 h 35 min

☐ 17 h 50 min

☐ 16 h 55 min

6. Escreve, na etiqueta, o resultado da adição  $\frac{1}{5} + \frac{3}{5}$ , na forma de fração.

$$\frac{1}{5} + \frac{3}{5} = \boxed{\phantom{000}}$$

7. Uma caneca tinha 2 litros de água. Com essa água, a Rita encheu completamente 5 copos iguais e, na caneca, ainda ficaram 250 mililitros de água.

Que quantidade de água, em mililitros, deitou a Rita em cada copo?

Explica como chegaste à tua resposta.

Resposta: \_\_\_\_\_ ml

8. Rodeia todos os números que são múltiplos de 12.

2

6

12

18

24

36

54

9. Sabe-se que  $24 \times 36 = 864$ .

Assinala com **X** a opção onde está representado o produto  $25 \times 36$ .

☐  $864 + 36$

☐  $864 + 25$

☐  $864 - 36$

☐  $864 - 25$

10. Constrói uma circunferência com 4 centímetros de diâmetro e com o centro no ponto A.

Não necessitas de apresentar a tua construção a caneta nem a esferográfica.

• A

11. Durante a manhã, o pai da Rita vendeu 72 bolos, na sua pastelaria. À tarde, vendeu o quádruplo dessa quantidade. Todos os bolos foram vendidos em caixas e cada caixa levava 6 bolos.

Quantas caixas de bolos, no total, vendeu o pai da Rita?

Explica como chegaste à tua resposta.

Resposta: \_\_\_\_\_