

Observa el calendario y responde las preguntas marcando con una palomita ☒ la respuesta correcta.

Maria



OCTUBRE 2018

Dom	Lun	Mar	Mié	Jue	Vie	Sab
	1	2	3	4	5	6
7	8	9	10	11	12	13
14	15	16	17	18	19	20
21	22	23	24	25	26	27
28	29	30	31			

NOVIEMBRE 2018

Dom	Lun	Mar	Mié	Jue	Vie	Sab
				1	2	3
4	5	6	7	8	9	10
11	12	13	14	15	16	17
18	19	20	21	22	23	24
25	26	27	28	29	30	

DICIEMBRE 2018

Dom	Lun	Mar	Mié	Jue	Vie	Sab
						1
2	3	4	5	6	7	8
9	10	11	12	13	14	15
16	17	18	19	20	21	22
23	24	25	26	27	28	29
30	31					

Daniela



1.- ¿Cuánto días pasaran del cumpleaños de María al cumpleaños de Daniela?

☐ 31 días

☐ 65 días

☐ 28 días

2 y 3.- De los siguientes acontecimientos, ¿cuál se coloca en el horario y cuál en el calendario?

Acontecimiento	Horario	Calendario
Educación física: Lunes y jueves 9:30	<input type="checkbox"/>	<input type="checkbox"/>
La primavera inicia el 21 de marzo	<input type="checkbox"/>	<input type="checkbox"/>

4 al 7.- Resuelve las operaciones.

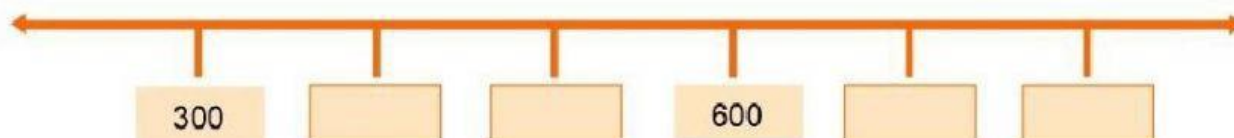
$100 + 10 =$

$200 + 100 =$

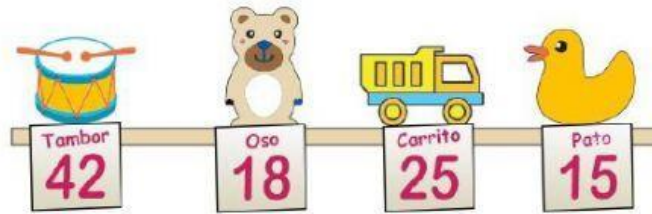
$100 + 4 =$

$900 + 100 =$

8 al 11.- Escribe los números que faltan en la recta numérica.



Observa el precio de los juguetes y responde las preguntas.



12.- Miguel compró un tambor y un oso. ¿Cuánto tuvo que pagar? _____

13.- Si tienes \$ 15, ¿cuánto más necesitas para comprar un carrito? _____


14 y 15.- Calcula el total de dulces y plátanos.



5 vasos y en cada vaso 4 dulces, son _____ dulces.

4 racimos y en cada racimo 3 plátanos, son _____ plátanos.

16 y 17.- Encierra en un círculo la **suma** con la que puedes hallar el total de dulces.



$5 + 5 + 5$

$3 + 5 + 3$

$3 + 3 + 3 + 3$

$3 + 4 + 3 + 4$

Resuelve los problemas.

18.- Luisa compró 4 paletas, cada una costó \$ 6. ¿Cuánto pagó en total?

$6 \times 4 =$

19.- Daniel compró 7 bolsas de dulces, en cada bolsa hay 5 piezas. ¿Cuántos dulces tiene en total?

$5 \times 7 =$

20 y 21.- Marca con una ☒ la multiplicación con la que puedes calcular el total de galletas en cada charola. Considera las que están debajo de la hoja de papel.


☐

6x5

☐

5x7


☐

4x4

☐

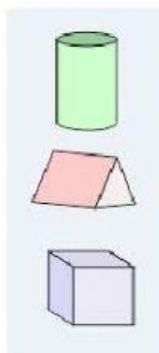
5x4

22 al 23.- Une con una línea el cuerpo geométrico con su descripción.

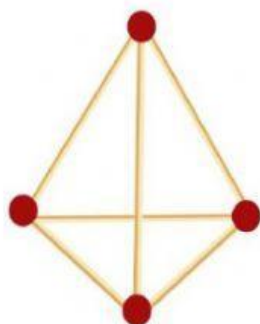
*Parece el techo de una casa.
Tiene 2 triángulos y 3 rectángulos.*

*Se parece a un rollo de papel
higiénico. Tiene 2 círculos.*

Parece un cubo tiene 6 cuadrados.



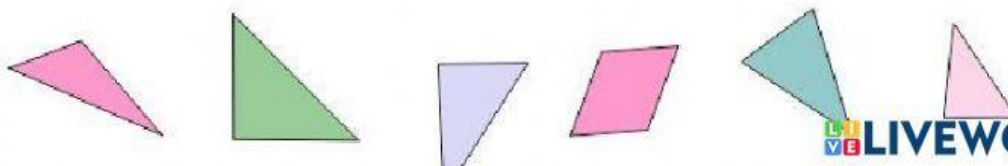
24 y 25.- ¿Cuántas aristas y cuántos vértices tiene la siguiente figura?



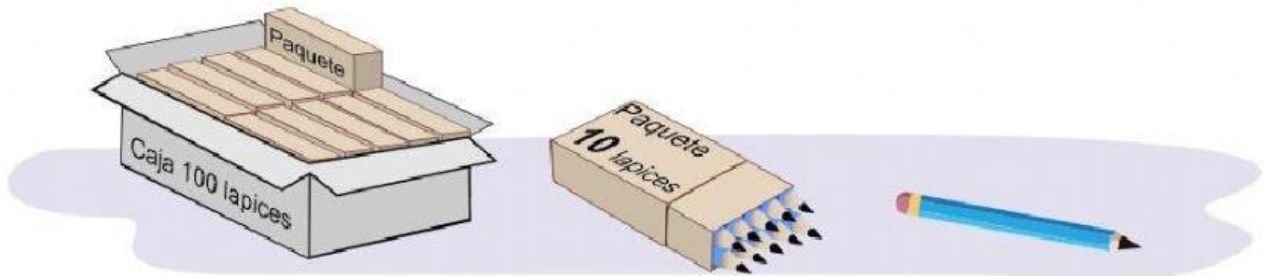
Aristas

Vértices

26.- Tacha la figura que consideres no pertenece al siguiente grupo.



En la papelería “Escolar” venden lápices y los entregan así:



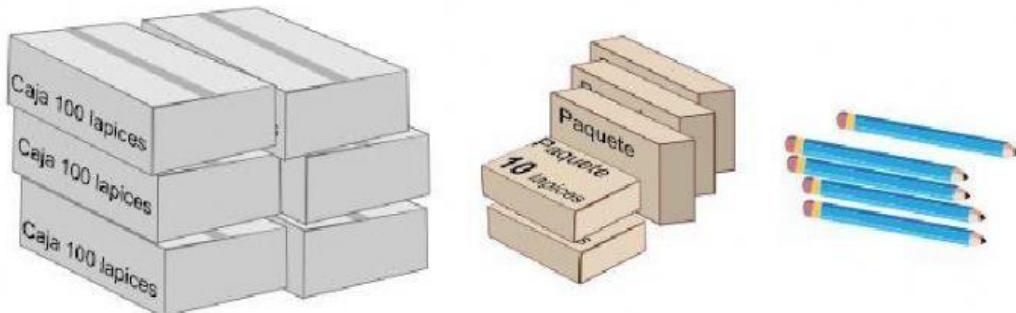
27.- Anota cuántas cajas, paquetes y lápices sueltos se necesitan para entregar: **725 lápices.**

Cajas

Paquetes

Lapices sueltos

Sofía compró lo siguiente:



28.- ¿Cuántos lápices compró en total?

29.- Marca con una palomita ☒ los recipientes con la misma capacidad.

