

LKPD

Kingdom Monera

Kelas X / Fase E
SMAN 4 Jember



Disusun Oleh : Nuraida Delia P

Materi : Kingdom Monera (Bakter)

Kelas / Semester : X / 1 (Ganjil)

Tujuan Pembelajaran

- Peserta didik dapat mengidentifikasi ciri-ciri dan klasifikasi bakteri melalui penjelasan guru dengan tepat
- Peserta didik dapat mengidentifikasi struktur sel bakteri beserta fungsinya melalui diskusi kelompok dengan benar
- Peserta didik dapat mengidentifikasi bentuk-bentuk bakteri melalui diskusi kelompok dengan benar

Petunjuk Pengerjaan LKPD:

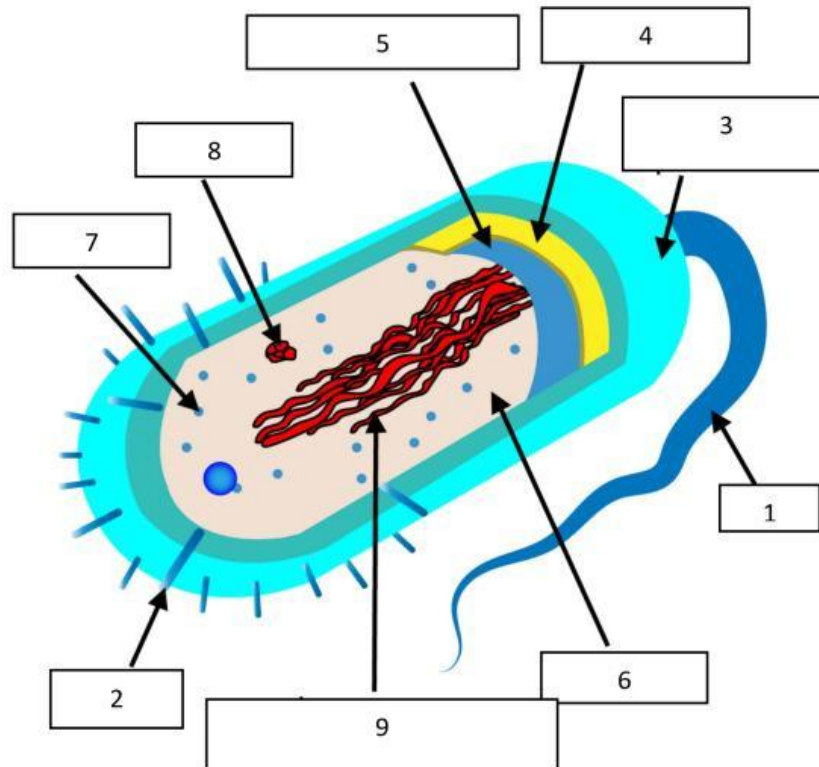
1. Bentuklah kelompok yang beranggotakan 6 orang
2. Pahami soal dan gambar yang telah tersedia di LKPD
3. Jawablah tiap soal LKPD bersama kelompok dengan benar
4. Kumpulkan LKPD secara online (Perwakilan salah satu orang dalam setiap kelompok)

Nama Anggota Kelompok : ex. Nuraida Delia / 6 / (23)

1. Sebutkan ciri-ciri bakteri yang telah kamu ketahui melalui penjelasan guru yang telah disampaikan di awal pembelajaran

2. Amatilah gambar struktur sel bakteri di bawah ini!

Struktur Sel Bakteri



Setelah mengamati struktur sel bakteri tersebut, Identifikasilah dan tuliskan nama organ bakteri dari nomer 1-9 beserta fungsinya!

--

3. Amatilah bentuk-bentuk bakteri di bawah ini. Kemudian jodohkanlah bentuk bakteri dengan nama bakteri yang menurut kelompokmu paling tepat!

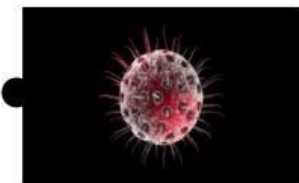
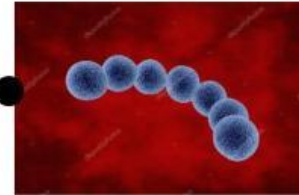
Monobasil

Monococcus

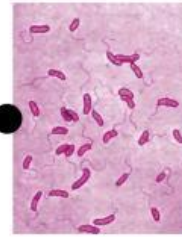
Diplobasil

Diplococcus

Streptococcus



Streptobasil ●



Vibrio ●



Staphylococcus ●



Sarcina ●



Spiral ●



Spiroseta ●

