

Problemas de dos operaciones






Recuerda:

- 1º Lee el enunciado, prestando atención a los **números** y lo que nos **pregunta** el problema.
- 2º Anota los **datos**.
- 3º Piensa en las **operaciones** a realizar y el **orden** de las mismas.
- 4º Realiza las **operaciones**.
- 5º Anota la **solución** al final.

1 En el gimnasio del Seve hay 36 balones de fútbol, 28 de baloncesto y 13 de volleyball. Si 25 del total están pinchados, ¿Cuántos podrá utilizar Javier para las Olimpiadas deportivas?

DATOS:

-  Balones de fútbol:
-  Balones de baloncesto:
-  Balones de volleyball:
- Balones pinchados:

OPERACIONES:

Calcula en tu cuaderno y señala:

Solución: Javier puede utilizar _____ balones para las Olimpiadas deportivas

2 Este fin de semana he ayudado a mis papás a hacer la compra. Nos gastamos 128€ en total. Si en la carnicería nos gastamos 27 €, en la pescadería 25€ y en la frutería 16 €. ¿Cuánto nos gastamos en el supermercado?

DATOS:

-  Dinero gastado:
-  Carnicería:
-  Pescadería:
-  Frutería:

OPERACIONES:

Calcula en tu cuaderno y señala:

Solución: En el supermercado nos gastamos _____ €.