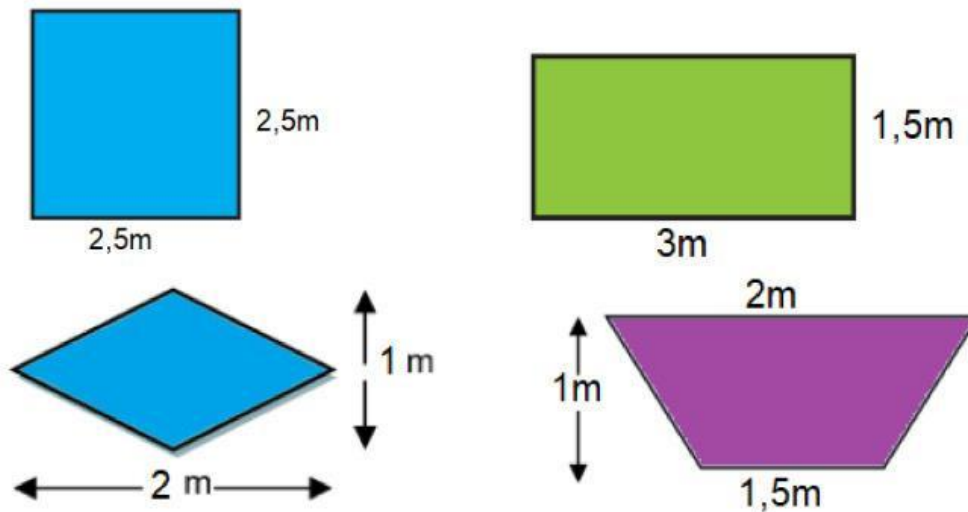


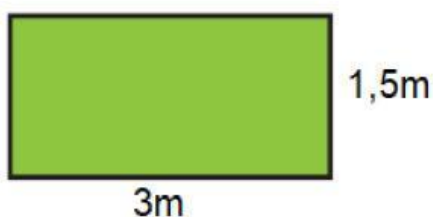
RESOLVEMOS PROBLEMAS QUE INVOLUCRAN EL USO DE CUADRILÁTEROS

En la I.E. "Augusto B. Leguía" se está realizando una campaña para promover la alimentación saludable. Con esa finalidad, la profesora Teresa ha diseñado gigantografías con mensajes motivadores y formas creativas. En la imprenta "SAYU" le cobran S/20 soles por la impresión de 1m^2 de gigantografía, si ella imprimirá gigantografías con las formas y tamaños mostradas en las imágenes. ¿Cuánto tendrá que pagar en total?

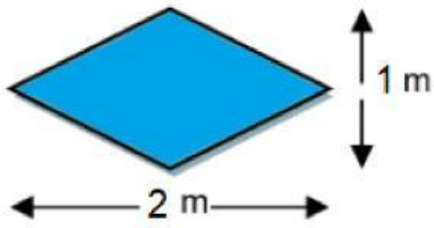


Solución:

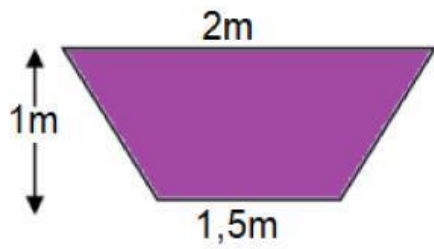
Área del



Área del



Área del



Costo total:

Respuesta: