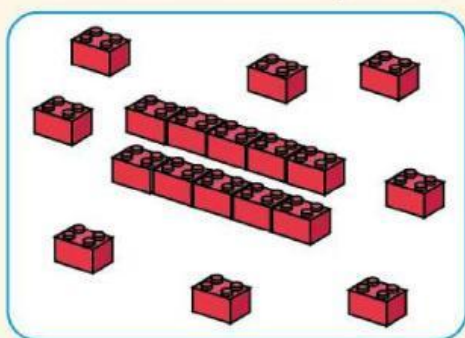




EVALUACIÓN

DINÁMICA

1. ¿Cuál es el número anterior al número de piezas?
Selecciona la respuesta correcta.



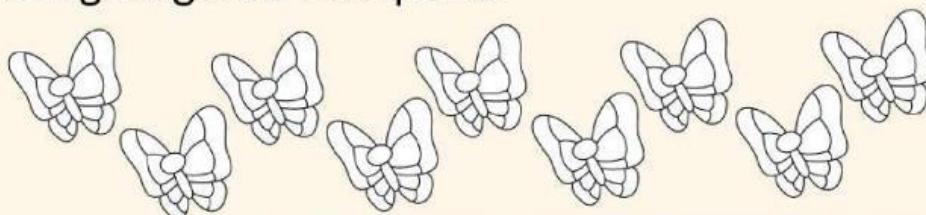
18

Diecisiete

19

Dieciocho

2. Escoge algunas mariposas



3. Resuelve el siguiente ejercicio:

$$\begin{array}{r} 5 \\ + 2 \\ \hline \end{array}$$

$$\begin{array}{r} 3 \\ + 2 \\ \hline \end{array}$$

$$\begin{array}{r} 8 \\ + 1 \\ \hline \end{array}$$

$$\begin{array}{r} 7 \\ + 3 \\ \hline \end{array}$$

4. ¿Cuál es el resultado de estas restas? Selecciona la respuesta correcta.



6

7

8



4

3


5





1. Observa dinámicamente y selecciona según se indica.

Todos los triángulos.
Algunos cuadrados.
Muchos círculos.



- Cuadrados
- Triángulos
- Círculos