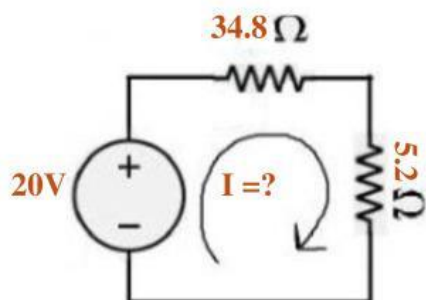


Hoja de ejercicios Ley de Ohm (Voltaje, Intensidad y Corriente)

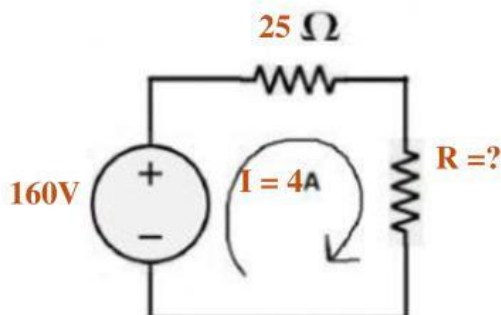
Resuelve los ejercicios y encuentre los que se le solicita en cada uno de ellos puede ser (Voltaje, Intensidad y corriente) deja constancia de tus procesos en hojas adicionales.

1.



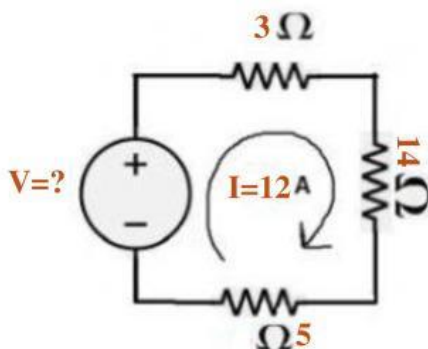
$$I = \boxed{} \text{ A}$$

2.



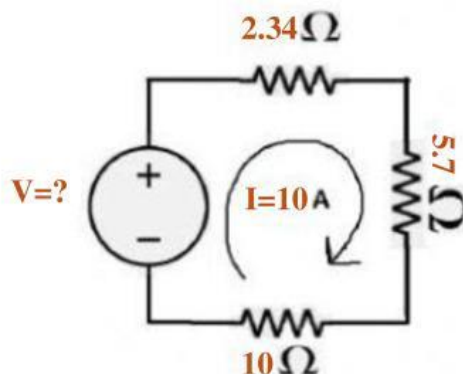
$$R = \boxed{} \Omega$$

3.



$$V = \boxed{} \text{ V}$$

4.



$$V = \boxed{} \text{ V}$$