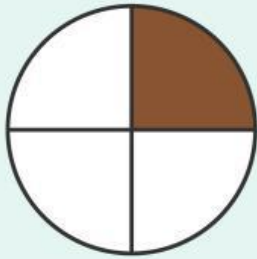




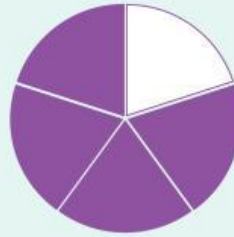
Perhatikan gambar berikut!



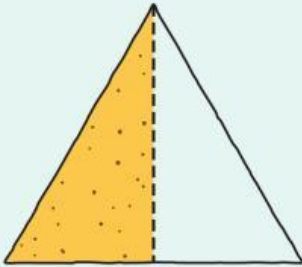
Isilah titik-titik dibawah ini sesuai dengan nilai bagian yang berwarna



.....



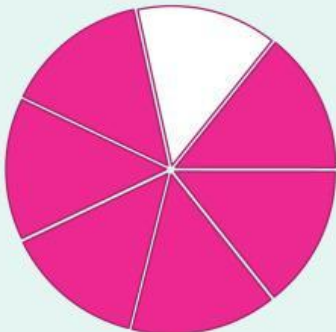
.....



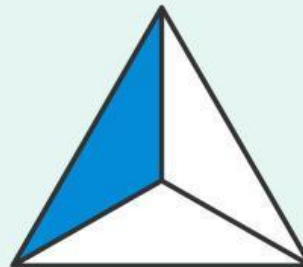
.....



.....



.....



.....





Menjodohkan

Buatlah garis yang menghubungkan antara nilai pecahan dengan gambar yang melambangkan nilai pecahannya!

