

Lembar Kerja Peserta Didik

# LKPD

Ilmu Pengetahuan Alam

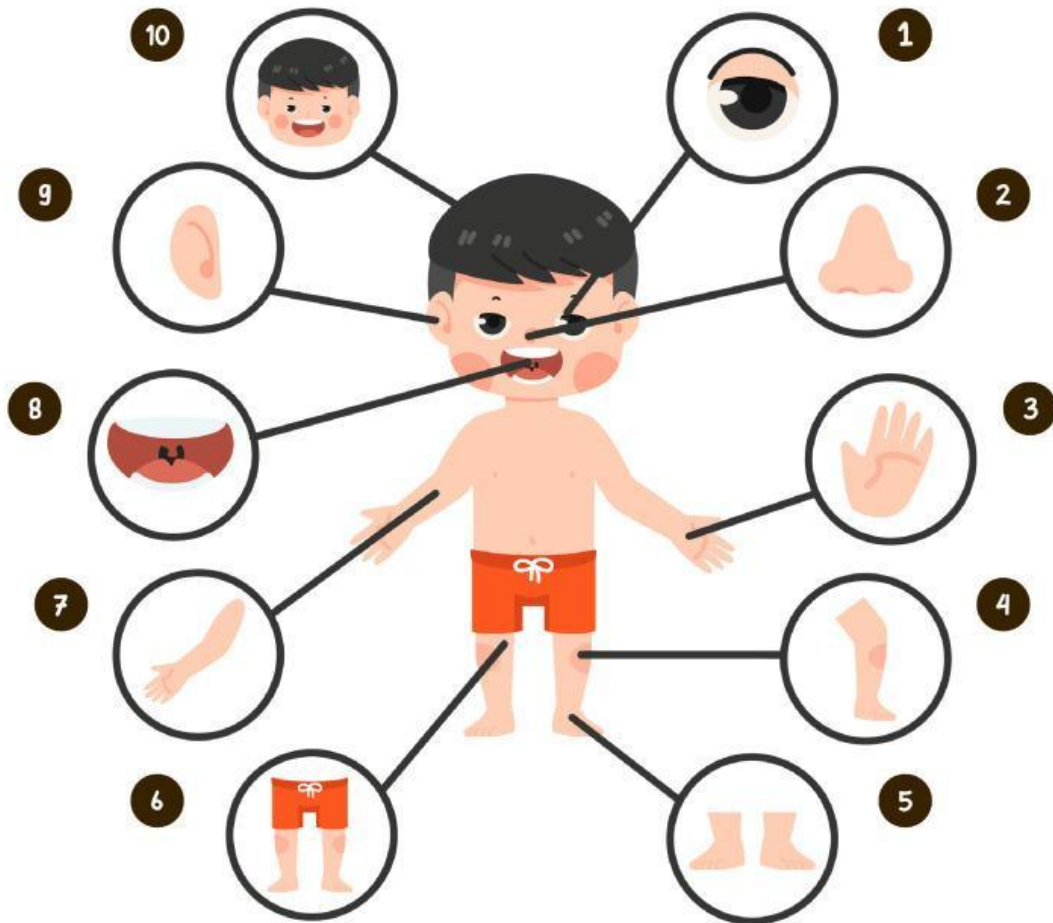
Nama : .....

Kelas : .....



# MENGENAL ANGGOTA TUBUH MANUSIA

Tulis nama anggota tubuh sesuai dengan nomor berikut!



1

6

2

7

3

8

4

9

5

10

# Mengenal Anggota Tubuh

Tuliskan nama anggota tubuh berikut ini.



# MENGENAL FUNGSI ORGAN TUBUH

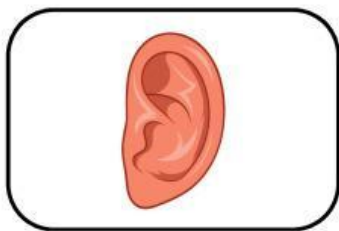
Hubungkan gambar organ tubuh dengan fungsinya yang benar!



•

•

Berjalan



•

•


Melihat



•

•

Mendengar



•

•

Mencium bau



•

•

Makan dan berbicara