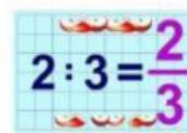




## «Звичайний дріб»




1. Доповни речення, здійснивши вибір або допиши потрібне слово:

Звичайний дріб – це \_\_\_\_\_ двох чисел.

- ✚ Також це запис, що складається із \_\_\_\_\_ та \_\_\_\_\_.
- ✚ Число, яке показує на скільки рівних частин поділили щось ціле – \_\_\_\_\_.
- ✚ Число, яке показує, скільки таких рівних частин взяли – \_\_\_\_\_.

2. Відміть у правильний запис:



Дріб	Чисельник	Знаменник
$\frac{2}{3}$	2	3
$\frac{1}{9}$	9	1
$\frac{5}{3}$	3	5

3. Вся піца – 1 ціле або дріб  $\frac{8}{8}$ , бо поділена на 8 рівних частин.

Забрали 3 шматочки, тобто (перетягни дріб) – \_\_\_\_\_

Залишилось 5 шматочків, тобто (перетягни дріб) – \_\_\_\_\_

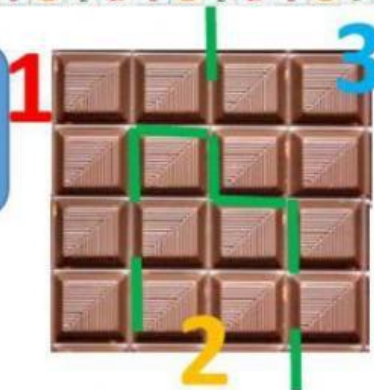
4. Троє друзів: Артур, Денис та Микола розділили шоколадку на частини як показано на малюнку. Відомо, що частини Дениса та Миколи – однакові.

Запиши у вигляді дробів частини шоколадки, які з'їв кожен з них.

Артур - \_\_\_\_\_

Денис - \_\_\_\_\_

Микола - \_\_\_\_\_



5. Познач прапорцем правильні нерівності:

$\frac{1}{11} < \frac{5}{11}$

$\frac{3}{11} > \frac{5}{11}$

$\frac{11}{11} < \frac{1}{11}$

$\frac{5}{11} > \frac{2}{11}$

$\frac{6}{11} < 1$

Чи правда, що жовтих частинок найбільше?

Зелених найменше?