

# LKPD (LEMBAR KERJA PESERTA DIDIK )

**Kelas/Kelompok** : .....

**Mata Pelajaran** : Informatika




**Nama Anggota** : .....

.....

.....

.....

- a. Buatlah kelompok 1-2 orang.
- b. Setiap kelompok mendapatkan LKPD dengan tema perangkat keras komputer
- c. Dari bentuk dan ciri benda Yang ada pada kartu tersebut, kategorikan perangkat keras tersebut dalam kelompok input, prosesor, output, atau storage serta deskripsikan secara singkat fungsi dari masing perangkat tersebut.

No	Foto Piranti	Fungsi	Kategori (Berilah Tanda ✓ ) pada Gambar yang Sesuai			
			Input	Pemroses	Output	Storage
1.						
2.						
3.						

4.						
5.						
6.						
7.						
8.						
9.						
10.						

