





Họ và tên:.....
Lớp:.....

Bài khảo sát môn Tin học 5

Câu 1: Những sản phẩm nào dưới đây là sản phẩm số?

- Tệp văn bản Word
- Tệp trình chiếu PowerPoint
- Bức thư viết tay trên giấy.
- Chương trình Scratch vẽ hình vuông

Câu 2: Sản phẩm nào dưới đây *không* phải là sản phẩm số. Hãy chọn đáp án đúng.

 Luyen go ban phim.docx	 Di chúc của Chủ tịch Hồ Chí Minh	 Bai thuc hanh 5.pptx	
a)	b)	c)	d)

Câu 3:

Hãy điền vào chỗ trống chữ cái tương ứng với cụm từ thích hợp trong các câu sau:

A  Word	B sản phẩm số	C  Scratch	D  Tangrams	E  Math Educator	F  Chrome
---	-------------------------	--	---	--	---

- Em có thể học Toán cùng phần mềm
- Em có thể chơi ghép hình với phần mềm
- Em có thể truy cập Internet bằng phần mềm
- Em có thể tạo tệp văn bản bằng phần mềm
- Em có thể tạo chương trình máy tính bằng phần mềm
- Các tệp trình chiếu, tệp văn bản, chương trình máy tính là những

Câu 4:

Hãy điền vào chỗ trống chữ cái tương ứng với cụm từ thích hợp trong các câu sau:

A chăm chỉ	B giúp em học tập	C trao đổi thông tin	D tạo ra sản phẩm số
----------------------	-----------------------------	--------------------------------	--------------------------------

- Máy tính có thể, giải trí, tìm kiếm,, hợp tác với bạn bè và theo ý tưởng của bản thân.
- học tập sẽ giúp em sử dụng máy tính thành thạo để làm được nhiều việc hơn.

Câu 5:

Hãy ghép một nội dung ở **Cột A** với một nội dung ở **Cột B** để được đáp án hoàn chỉnh.

Cột A	Cột B
A) Máy tính giúp em học tập	a) Sử dụng phần mềm Chrome để tìm ảnh minh họa cho bài thuyết trình
B) Máy tính giúp em giải trí	b) Học trực tuyến bằng phần mềm Zoom
C) Máy tính giúp em tìm kiếm, trao đổi thông tin, hợp tác với bạn bè	c) Chơi ghép hình với phần mềm Tangrams
D) Máy tính giúp em tạo ra sản phẩm số	d) Lập chương trình Scratch để vẽ hình vuông

Câu 6:

Điền thứ tự các bước để tìm kiếm thông tin “kỹ năng sống” trên website thieunien.vn.

Bước : Kích hoạt trình duyệt web, nhập thieunien.vn vào ô địa chỉ rồi nhấn phím **Enter**

Bước : Quan sát các kết quả tìm được, nháy chuột chọn kết quả phù hợp

Bước : Tại thanh menu nội dung, chọn mục **CẨM NANG**, chọn **KỸ NĂNG SỐNG**

Câu 7: Học sinh kéo thả các cụm từ gợi ý bên dưới để hoàn thành các phát biểu sau:

thông tin

từ khoá

hệ thống

chia sẻ

❖ Có thể sử dụng hai cách sau để tìm kiếm..... trên website:

- Tìm kiếm dựa vào..... menu.
- Tìm kiếm bằng công cụ tìm kiếm với.....

❖ Hợp tácthông tin với nhau giúp các em hoàn thành công việc tốt hơn.

Câu 8: Em hãy lập bảng kế hoạch cho từng thành viên trong nhóm để tạo bài trình chiếu về “Những qui tắc an toàn khi sử dụng điện cho trẻ em” (gồm 4 đến 5 trang).

Người thực hiện	Công việc	Nơi thu thập thông tin	Ghi chú
Bạn 1			
Bạn 2			

Bạn 3			
Bạn 4			

Gợi ý: Học sinh kéo thả từng nội dung vào từng ô phù hợp

Tìm hiểu sử dụng điện an toàn

Thuyết trình

Tìm hiểu an toàn khi sử dụng điện với trẻ em

Tạo slide trên PowerPoint

- Sách giáo khoa, báo, Internet, ...
- Từ người lớn

- Trên máy tính

Kết quả tìm kiếm có thể là văn bản hoặc hình ảnh minh họa

Tạo 4 đến 5 slide

Câu 9: Học sinh kéo thả các cụm từ gợi ý bên dưới để hoàn thành các phát biểu sau:

tìm kiếm

lựa chọn

giải quyết

phân công

- ❖ Thu thập vàthông tin là rất cần thiết và có vai trò quan trọng trongvấn đề.
- ❖ Có nhiều cách để thu thập và tìm kiếm thông tin, em cầngiải pháp phù hợp.
- ❖ Khi thực hiện giải quyết vấn đề, cần có sự....., hợp tác giữa các thành viên.

Câu 10. Trong các phát biểu, phát biểu nào là đúng?

- a. Có thể tìm tệp đã lưu trên máy tính nếu biết tên tệp đó.
- b. Chỉ có thể tìm thư mục đã lưu trên máy tính khi biết đường dẫn của thư mục đó.
- c. Tạo cây thư mục với cấu trúc cây hợp lí giúp em lưu các tệp, thư mục trên máy tính một cách khoa học, dễ tìm kiếm.

Câu 11. Em hãy chọn thứ tự đúng cách sử dụng công cụ tìm kiếm trên phần mềm File Explorer để tìm tệp, thư mục:

1. Gõ tên tệp, thư mục cần tìm vào ô tìm kiếm rồi nhấn phím Enter.
2. Chọn phạm vi tìm kiếm;
3. Kích hoạt phần mềm File Explorer;

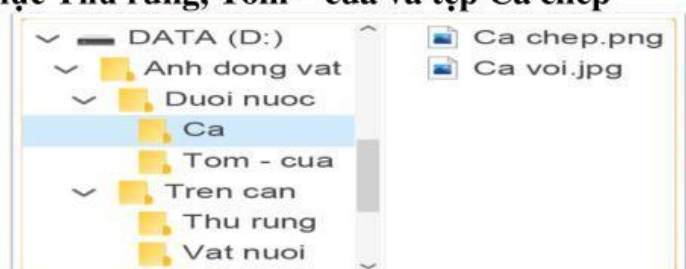
- a. 1-2-3
- b. 2-1-3
- c. 3-2-1
- d. 2-3-1

Câu 12. Đây là đường dẫn đúng của thư mục Thu rung, Tom – cua và tệp Ca chep

a. D:\Anh dong vat\Tren can

b. D:\Anh dong vat\Duai nuoc

c. D:\Anh dong vat\Duai nuoc\Ca\Ca chep



Chúc các em có bài khảo sát đạt kết quả tốt nhé!