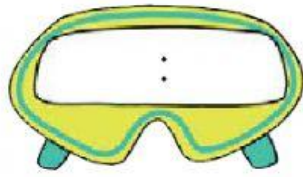
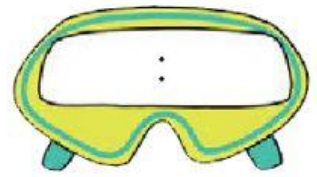


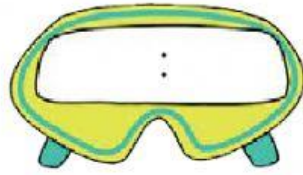
Lee y completa los relojes.



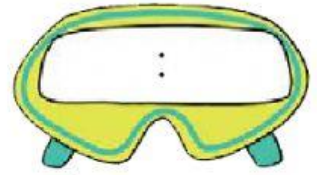
El cohete despegó
a las 3 en punto.



Los astronautas se asomaron
por la ventana a las 3 y cuarto.

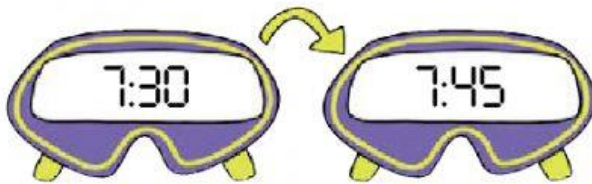


A las 3 y media divisaron
el planeta Númerois.

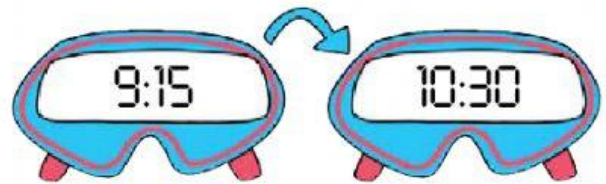


Comenzaron el aterrizaje
a las 4 menos cuarto.

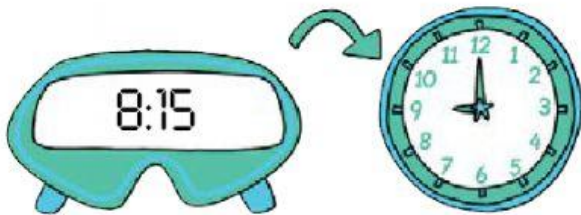
¿Cuánto tiempo ha pasado en cada caso? Señala.



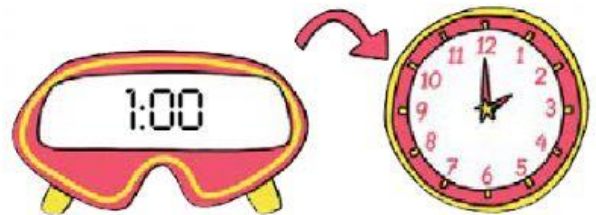
- Un cuarto de hora.
 Media hora.



- Tres cuartos de hora.
 Una hora y cuarto.



- 15 minutos.
 45 minutos.



- 30 minutos.
 60 minutos.