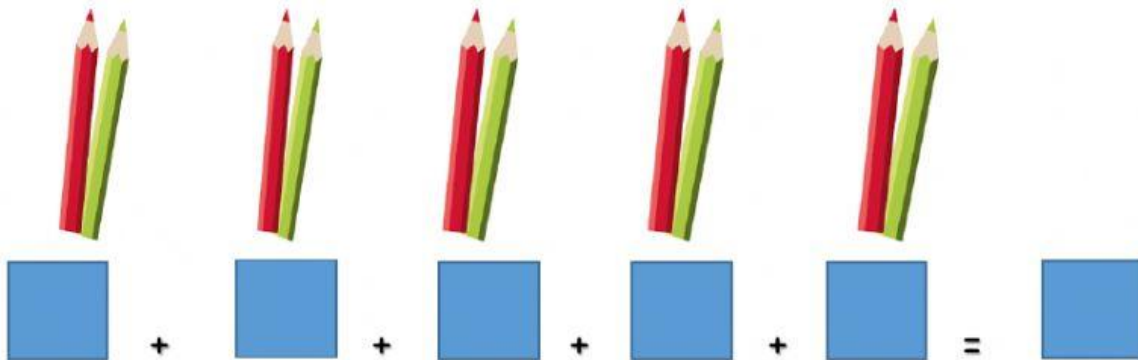


REPASO U.D.7

Mate 2º

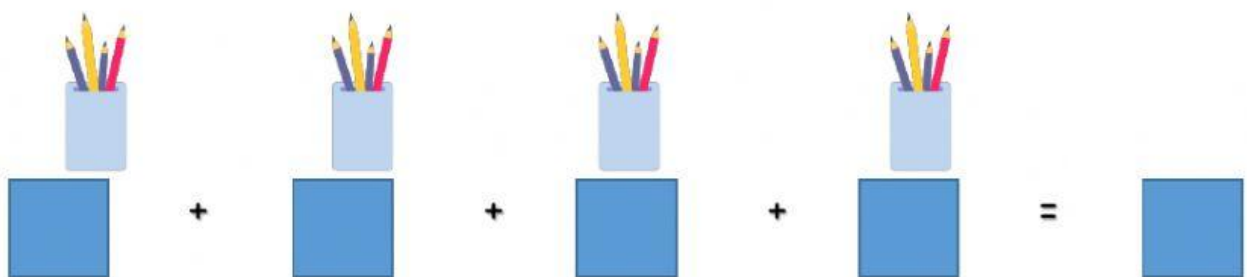


1) Completa las sumas y transfórmalas en multiplicaciones:



El número _____ se repite _____ veces

$$\square \times \square = \square$$



El número _____ se repite _____ veces

$$\square \times \square = \square$$

- 2) Comprueba qué ocurre con estas dos multiplicaciones y elige la opción correcta.

$$2 \times 3 = \square \quad 3 \times 2 = \square$$


- Que es mayor el resultado de la segunda.
- Que es mayor el resultado de la primera.
- Que da el mismo resultado aunque cambie el orden de los números que multiplican.

- 3) Señala si las siguientes figuras planas son iguales o simétricas:



IGUALES

SIMÉTRICAS



IGUALES

SIMÉTRICAS

4) Completa las cantidades que te piden con estas monedas y billetes:



| | | | | |
|-------------|--|--|--|--|
| 37 Céntimos | | | | |
|-------------|--|--|--|--|

| | | | | |
|----------|--|--|--|--|
| 18 euros | | | | |
|----------|--|--|--|--|

| | | | |
|-------------------------|--|--|--|
| 20 euros 51 céntimos | | | |
|-------------------------|--|--|--|