

ESCUELA NORMAL JUAN DEMÓSTENES AROSEMENA


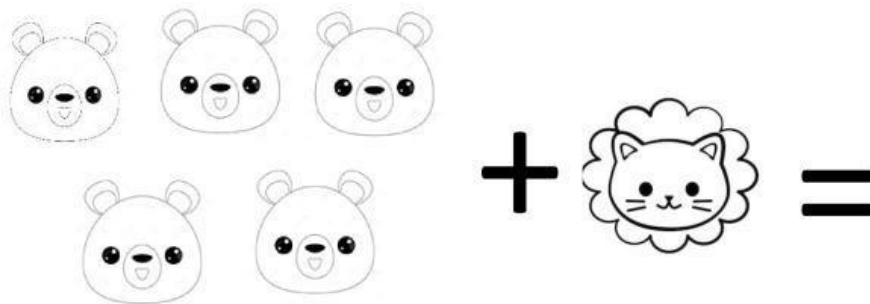

Maestra: Mileys Jiménez

Nivel 3°

Indicaciones:

Suma con animales

Escribe el numero de la suma de estos animales



Nombre:


Fecha:

Identifica la figuras geométricas por su nombre correspondientes.

Circulo



Cuadrado



Triangulo



Rectángulo

