




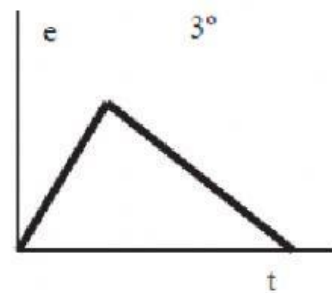
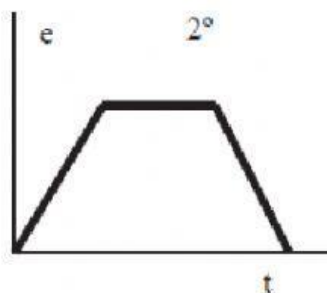
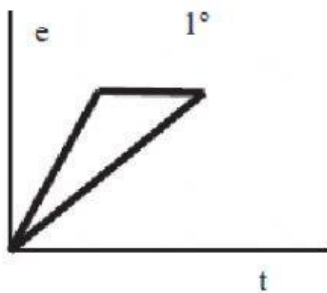
## FICHA INTERACTIVA - EL MOVIMIENTO

1. Observa la gráfica y señala la opción verdadera:

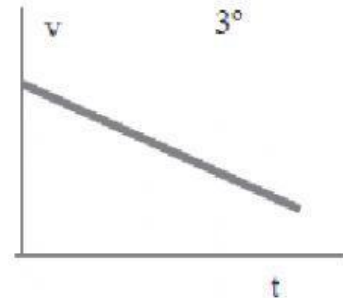
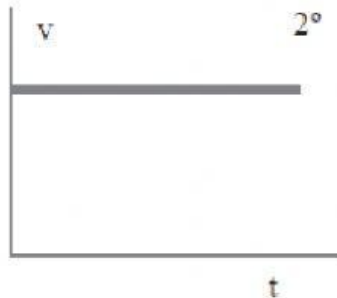
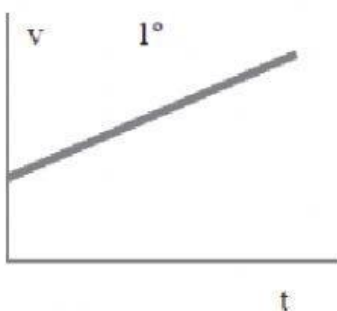


- a) Es MRU
- b) Es MRUA
- c) Está subiendo una cuesta

2. Un niño sale de su casa, se mueve durante un rato, después se para y regresa a su casa. ¿Cuál de estas gráficas describe este trayecto?



3. Las 3 gráficas siguientes pertenecen a 3 móviles distintos: El coche mueve siempre a la misma velocidad, la moto va acelerando y el camión va frenando. Identifica cuál corresponde a cada caso:





4. Identifica cada gráfica con el movimiento de estos dibujos y pon el número de la gráfica en el círculo en blanco:

