



E-LKPD

Ilmu Pengetahuan Alam

SISTEM TATA SURYA

KELAS 6 SEMESTER 2

DISUSUN OLEH :



Fatikha Nabila (23206049)



Zachwa Ainul (23206047)



Mahdiyyatus Salwa (23206065)

Tujuan Pembelajaran



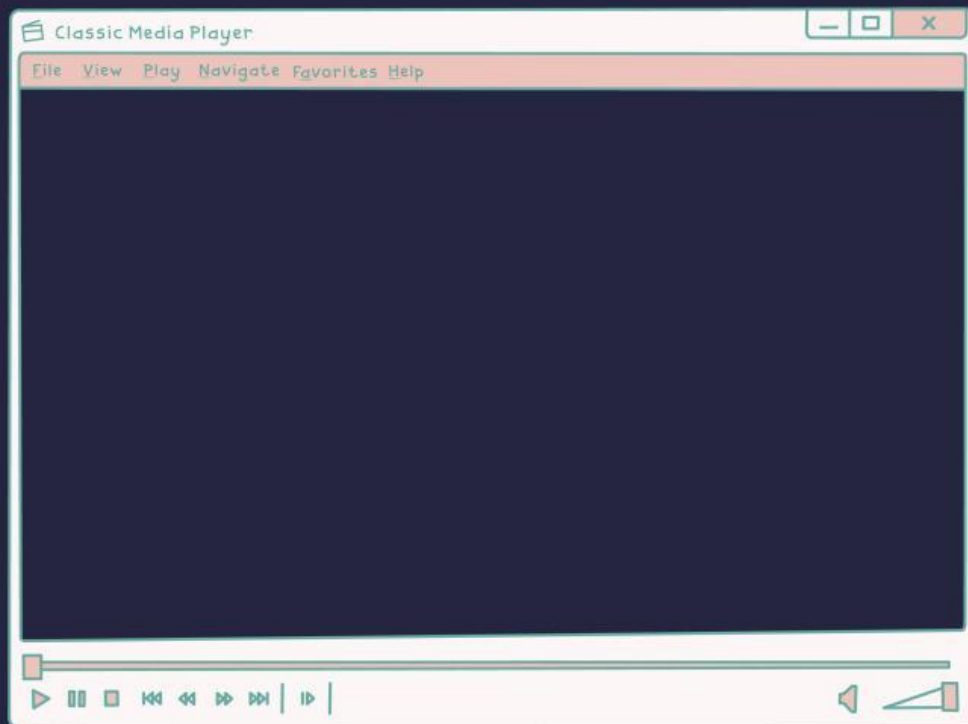
Peserta didik dapat mengurutkan 8 planet yang ada pada tata surya.

Peserta didik dapat menjodohkan tata surya dengan benar



Peserta didik dapat membedakan benda langit dalam tata surya.

**PERHATIKAN VIDEO
PEMBELAJARAN SISTEM TATA
SURYA DIBAWAH INI!!**



Nama dan Gambar Planet

Buatlah garis untuk menghubungkan pasangan gambar dan nama planet yang sesuai.

Merkurius



Bumi



Saturnus



Jupiter



Mars



Mengelompokkan Benda

Buatlah garis untuk menghubungkan nama-nama benda tersebut sesuai dengan kelompoknya.

Bulan

Meteor

Uranus

Titan

Komet

Mars

Asteroid

Planet

Benda luar angkasa

Satelit

Urutkan susunan Tata Surya
dibawah ini dengan benar



1. _____
2. _____
3. _____
4. _____
5. _____
6. _____
7. _____
8. _____
9. _____

MENJAWAB BENAR ATAU SALAH
PADA PERNYATAAN DIBAWAH INI!



**GAMBAR INI ADALAH
GAMBAR BENDA LANGIT
YAITU METEOR**

BENAR

SALAH

MENJAWAB BENAR ATAU SALAH
PADA PERNYATAAN DIBAWAH INI!



**JUPITER ADALAH PLANET
TERBESAR DI TATA SURYA**

BENAR

SALAH

MENJAWAB BENAR ATAU SALAH
PADA PERNYATAAN DIBAWAH INI!



**PLANET TERSEBUT
ADALAH PLANET VENUS**

BENAR

SALAH


MENJAWAB BENAR ATAU SALAH
PADA PERNYATAAN DIBAWAH INI!




**BEBATUAN TERSEBUT TERMASUK
DALAM KELOMPOK JENIS PLANET**

BENAR

SALAH



TEMUKAN 8 KATA YANG BERHUBUNGAN
DENGAN SISTEM TATA SURYA!!!!



M	E	T	E	O	R
A	N	A	T	I	T
R	H	B	U	M	I
S	K	U	I	W	G
C	A	L	I	E	N
U	R	A	N	U	S
S	U	N	E	V	Y
A	T	E	M	O	K