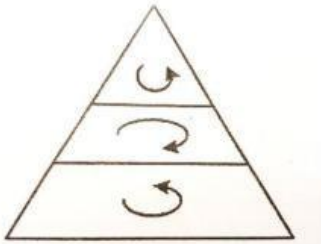


PENILAIAN HARIAN PERBEDAAN, KESETARAAN, DAN HARMONI SOSIAL

PILIHAN GANDA

Jawablah pertanyaan berikut dengan meng-klik satu alternatif jawaban yang paling tepat!

1. Bentuk geografis Indonesia berpengaruh terhadap kemajemukan masyarakat. Banyaknya wilayah di Indonesia yang masih terisolasi menghambat terjadinya interaksi/pergaulan dengan masyarakat lain. Kenyataan tersebut menyebabkan terjadinya kemajemukan
 - A. Suku bangsa
 - B. Agama resmi
 - C. Ras/ciri fisik
 - D. Golongan sosial
 - E. Daerah/wilayah
2. Sebagai bangsa yang memiliki keanekaragaman budaya, peranan pendidikan multikultural sangat penting bagi masyarakat Indonesia untuk mengembangkan
 - A. Kepribadian bangsa berdasarkan kebudayaan baru
 - B. Sikap toleransi terhadap perbedaan dalam masyarakat
 - C. Perbedaan-perbedaan budaya yang berkembang
 - D. Budaya lokal yang ada agar tidak memudar
 - E. Masyarakat yang adil dan makmur secara merata
3. Kemajemukan masyarakat Indonesia berdasarkan jenis agama ditandai dengan kesetaraan dalam hal cara beribadah berdasarkan
 - A. Asal usul agama
 - B. Para penyebar agama
 - C. Ajaran dalam kitab suci
 - D. Para tokoh agama
 - E. Tempat ibadahnya
4. Perhatikan bagan pelapisan sosial berikut ini!



Contoh yang sesuai dengan bagan di atas adalah

- A. Sistem upah tenaga kerja diberikan melalui sistem kontrak tahunan untuk mengetahui kinerja pegawai
- B. Berdasarkan hasil perhitungan suara, Pak Salim dipastikan memenangkan pilkada tahun ini
- C. Ida Ayu Made Indriani menikah dengan Ida bagus Putu Widayana yang berasal dari kasta yang sama
- D. I Gusti Wiriawan menjadi orang terkaya di kampungnya karena usahanya di bidang garmen
- E. Anak Agung Mahendra sudah bekerja di Dinas Sosial Provinsi Bali selama 15 tahun

5. Amalia adalah anak seorang karyawan biasa. Namun karena bakat, kegigihan, dan keuletannya, kini ia berhasil menjadi pemilik sebuah perusahaan garment yang berkelas. Kemampuan Amalia untuk meningkatkan status sosialnya hanya mungkin terjadi pada sistem pelapisan sosial ...
- Terbuka
 - Semi tertutup
 - Campuran
 - Tertutup
 - Semi terbuka

6. Perhatikan tabel berikut!

No	Nama	Agama	Profesi
1.	Anas	Islam	Dosen
2.	Happy	Kristen	Guru
3.	John	Katholik	Perawat
4.	Agung	Hindu	Dosen

Dari tabel diatas interseksi sosial kelompok agama dan kelompok profesi terjadi antara

- Anas dan John
 - Anas dan Agung
 - Happy dan John
 - Happy dan Agung
 - John dan Agung
7. Perhatikan contoh gejala sosial berikut!
- Ahmad dari guru SMA menjadi guru SMK
 - Fauzan dari guru diangkat menjadi kepala sekolah
 - Iwan supir angkot menjadi masinis kereta api
 - Anak buruh tani menjadi pedagang sayur grosir
- Yang termasuk mobilitas sosial adalah
- (1) dan (2)
 - (1) dan (3)
 - (2) dan (3)
 - (2) dan (4)
 - (3) dan (4).
8. Sebagai anak perempuan, Ririn lulusan SMA tidak melanjutkan kuliah ke perguruan tinggi, tetapi mengikuti pendidikan kursus komputer. Dia berharap akan cepat mendapatkan pekerjaan untuk membantu ekonomi keluarga. Dari contoh tersebut, faktor yang menghambat terjadinya mobilitas sosial adalah
- Struktur sosial dan agama
 - Kemiskinan dan tradisi
 - Status sosial dan usia
 - Keluarga dan lingkungan
 - Jenis kelamin dan keturunan
9. Ketika pertama masuk kelas X, para Siswa yang berasal dari berbagai sekolah, bermusyawarah membentuk pengurus kelas. Mereka juga membuat aturan bersama seperti jadwal piket dan iuran kas kelas yang mereka jalankan dengan penuh tanggung jawab. Berdasarkan ilustrasi tersebut, pentingnya integrasi dalam menciptakan harmoni sosial adalah
- menciptakan konsensus bersama yang dijadikan pedoman aktivitas
 - mengembangkan kebanggaan akan identitas bersama dalam sekolah
 - membangun rasa keamanan, kreatifitas, dan ketentraman siswa
 - memupuk rasa kesadaran nasional akan tanggung jawab bersama
 - menjadikan sekolah sebagai tempat aktualisasi diri

10. Perhatikan contoh berikut!

- (1) Sita sedang menyelesaikan tugas film dokumenter.
- (2) OSIS SMA X mengadakan bakti sosial dalam rangka lustrum sekolah.
- (3) Dalam suatu kegiatan keagamaan ada pemeluk agama lain yang membantu menjaga ketertiban dan keamanan.
- (4) Kerja bakti seluruh warga selalu diadakan ketika mendekati libur nasional.
- (5) Siswa yang diterima di perguruan tinggi tinggal satu asrama dengan siswa dari berbagai daerah.

Contoh di atas yang menunjukkan wujud kehidupan yang harmonis dalam masyarakat multikultural adalah

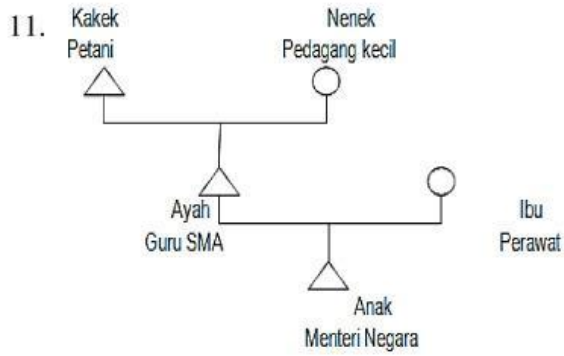
- A. (1), (2), dan (3)
- B. (1), (3), dan (4)
- C. (2), (3), dan (5)
- D. (2), (4), dan (5)
- E. (3), (4), dan (5)

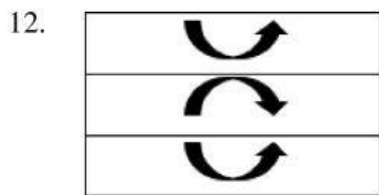
DRAG N' DROP

Drag dan drop jawaban ke gambar yang sesuai!

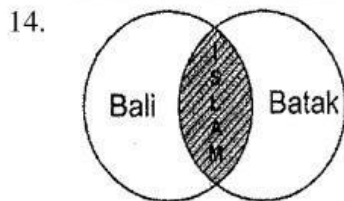
DRAG N' DROP

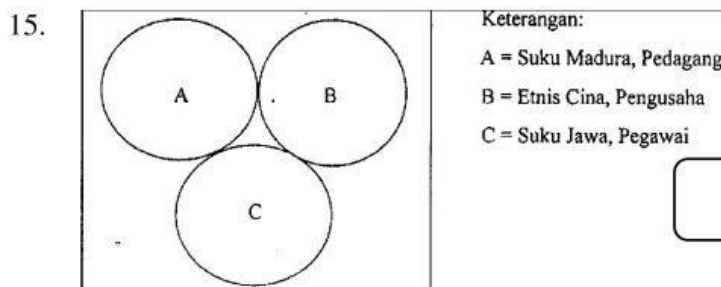
Drag dan drop jawaban ke gambar yang sesuai!











- a. Interseksi
- b. Mobilitas antargenerasi naik
- c. Diferensiasi sosial
- d. konsolidasi
- e. Sifat stratifikasi sosial tertutup